



JANDARMA OKULLAR KOMUTANLIĞI
JANDARMA ASTSUBAY TEMEL KURSU
GİRİŞ SINAVI (JANA)
14 NİSAN 2012

T.C. KİMLİK NUMARASI	:																		
ADI	:																		
SOYADI	:																		
SALON NO.	:											SIRA NO.:							
Soru kitapçık numarasının cevap kâğıdına kodlanmamasının veya yanlış kodlanmasının sorumluluğu adaya aittir.																			
SORU KİTAPÇIK NUMARASI :	TEMEL SORU KİTAPÇIĞI										Bu numarayı cevap kâğıdınızdaki ilgili alana kodlamayı unutmayınız.								

DİKKAT! SINAV BAŞLAMADAN ÖNCE AŞAĞIDAKİ UYARILARI MUTLAKA OKUYUNUZ.

1. T.C. Kimlik Numaranızı, Adınızı, Soyadınızı, Salon Numaranızı ve Sıra Numaranızı, Soru Kitapçığı üzerindeki ilgili alanlara yazınız.
2. Soru Kitapçık Numaranız yukarıda verilmiştir. Bu numarayı cevap kâğıdınızdaki ilgili alana kodlayınız ve aşağıdaki ilgili alanı imzalayınız. Salon görevlisinin de hem soru kitapçığındaki hem de cevap kâğıdınızdaki ilgili alanı imzalamasını sağlayınız. Bu kodlamayı cevap kâğıdınıza yapmadığınız veya yanlış yaptığınız takdirde, sınavınızın değerlendirilmesi mümkün değildir.
3. Bu sayfanın arkasında yer alan açıklamayı dikkatle okuyunuz.

Adayın imzası: Soru kitapçık numarasını doğru kodladım.	<input type="text"/>
Salon görevlisinin imzası: Adayın soru kitapçık numarasını cevap kâğıdına doğru kodladığını onaylıyorum.	<input type="text"/>

AÇIKLAMA

1. Bu test için verilen toplam cevaplama süresi **120 dakikadır (2 saat)**.
2. Testteki her sorunun sadece bir doğru cevabı vardır. Bir soru için birden çok cevap yeri işaretlenmişse o soru yanlış cevaplanmış sayılacaktır.
3. Cevaplamaya istediğiniz sorudan başlayabilirsiniz. Bir soru ile ilgili cevabınızı, cevap kâğıdında o soru için ayrılmış olan yere işaretlemeyi unutmayınız.
4. İşaretlediğiniz bir cevabı değiştirmek istediğinizde, silme işlemini çok iyi yapmanız gerektiğini unutmayınız.
5. Bu test puanlanırken doğru cevaplarınızın sayısından yanlış cevaplarınızın sayısının dörtte biri düşülecek ve kalan sayı testle ilgili ham puanınız olacaktır. Bu nedenle, hakkında hiçbir fikriniz olmayan soruları boş bırakınız. Ancak, soruda verilen seçeneklerden birkaçını eleyebiliyorsanız kalanlar arasında doğru cevabı kestirmeye çalışmanız yararınıza olabilir.
6. Sınavda uyulacak diğer kurallar bu kitapçığın arka kapağında belirtilmiştir.

Bu testte 100 soru vardır.

1. Kitabın 72. sayfasında kaldım, onu sen de okuyacaksan arasına koyduğum kâğıdı düşürme.

“Kalmak” sözcüğü aşağıdakilerin hangisinde bu cümledeki anlamıyla kullanılmıştır?

- A) Yüksek yerlerde daha çok kar varmış, sakın otobüs yolda kalmasın!
 B) Beni acımasızca eleştirmekle kalmadı, ona yazdığım şiirleri de buruşturup attı.
 C) Soba tüttü, evin her yeri duman içinde kaldı.
 D) Bugünlük bu kadar, yarın kaldığımız yerden devam ederiz.
 E) Aç kaldığımız yetmemiş gibi bir de dönerken yağmura yakalanmayalım mı!

2. Günümüzde yeni bir tiyatro anlayışına gereksinim duyuluyor. Alternatif tiyatro dediğimiz bu deneme tiyatrosu, var olan tiyatro alışkanlıklarına, tarzına bir tepki anlamına geliyor. Yeni çalışma yöntemlerini, teknikleri, estetiği üretme ve aktarma çabasında. Bu konuda, seyirciyi düşündürmeyi temel amaç sayan Brecht ise şöyle diyor: “Tiyatronun girişinde paltosuyla birlikte beynini de bırakan seyirciyi istemiyorum.”

Bu parçada Brecht’in altı çizili sözüyle anlatılmak istenen aşağıdakilerden hangisidir?

- A) İnsanların sanata ilgi duymaları için çaba gösterme
 B) Seyircinin yaşadığını düşündüğü sorunlara değinme
 C) Seyircinin, oyunun bir parçası olduğunu anımsatma
 D) Sanatın yol gösterici etkisini belirginleştirmeye çalışma
 E) İnsanların birbirini anlamasında sanatın önemini belirtme

3. Bu film, sana yöneltilmiş tanıdık bir ağıt, bir itiraf

gibi... Kaç varan varsa hepsine dokunan bir şey

çıkıyor bu ağıttan. Başrol oyuncusunun canlandığı

karakter, senin gibi yaşama tutunmaya çalışanların

hâllerini belleklere kazıyor. Oyuncunun düşünceli,

acılı yüzünde senin bütün endişelerinin yükü açıkça
 görülüyor.

Bu parçadaki numaralanmış sözcüklerden hangisi mecaz anlamıyla kullanılmıştır?

- A) I. B) II. C) III. D) IV. E) V.

4. Kış aylarında havalar soğuk diye (olduğu için) evde
I
oturmamak, dışarı çıkmamak kilo alma riskini
II
(tehlikesini) artırıyor. Halbuki (oysa) kışın da her
III
zamanki gibi aktif olmak gerekiyor. Egzersizi mutlaka
IV
(kesinlikle) açık havada ya da spor salonlarında
yapmak zorunda değilsiniz (yapmamalısınız).
V
Örneğin, apartmanınızda asansör yerine merdiven;
evde yürüyüş bandı kullanabilir, karın hareketleri
yapabilirsiniz.
- Bu parçadaki numaralanmış sözlerden hangisi
ayraç içinde verilen anlamda kullanılmamıştır?**
- A) I. B) II. C) III. D) IV. E) V.

5. (I) Hayatın iyi, güzel bir şey olduğunu düşünmek ve kabul etmek... (II) Duygusal, ruhsal bakımdan yaşamın parlak, umut veren güzel taraflarını görüp onlara daha fazla odaklanmak... (III) Elde ettiklerinden daha çoğunu istememek... (IV) Dahası, yaşamda kimi güçlüklerle karşılaşabileceğine ama bunların yapıcı bir tutumla aşılabileceğine inanmak... (V) Bütün bunlar, engellerle karşılaştığımızda ümitsizlik ve çaresizliğe gömülme yerine, kolları sıvayıp o engelleri aşmanın yollarını bulma alışkanlığı kazandırır. (VI) Bu tutum aynı zamanda daha huzurlu bir yaşamın da güvencesidir.
- Bu parçadaki numaralanmış cümlelerin hangisinde belirtilene uygun davranan bir kişi, "yetingen" olarak nitelendirilebilir?**
- A) I. B) III. C) IV. D) V. E) VI.

6. (I) Girintili çıkıntılı koyların ortasında bulunan Urla, kimi Ege ve Marmara kasabaları gibi denizden birkaç kilometre içeride kurulmuş. (II) Kasabanın sakin ve huzurlu sokakları, özgün dokusunu koruyan çarşısı görülmeye değer. (III) Öte yandan Urla, Yorgo Seferis ve Necati Cumalı'nın doğum yeridir. (IV) Nobel Edebiyat Ödüllü Yorgo Seferis'in doğduğu ev 2000 yılında restore edildi. (V) Necati Cumalı'nın Urla'daki evi, müze olarak varlığını sürdürüyor.

Bu parçadaki numaralanmış cümlelerin hangisinde karşılaştırma yapılmıştır?

- A) I. B) II. C) III. D) IV. E) V.

7. (I) İzmir Karaburun Feneri, yarımadaının ucunda. (II) Bu koca kentin gözcülüğünü yapıyor. (III) Karşısında Sakız, kuzeyinde Midilli... (IV) Kışın gemilere yol göstermekten artakalan zamanlarda balıkçılara kefalın yerini fısıldıyor. (V) Onun ışığında balık yakalayan, yakaladığı balıklardan fenerdeki iki kediyeye de vermeli.

Bu parçadaki numaralanmış cümlelerin hangilerinde kişileştirmeye başvurulmuştur?

- A) I. ve II. B) I. ve III. C) II. ve IV.
D) III. ve V. E) IV. ve V.

8. (I) Kaçkarlarda sonbahar başlarken dağların üstünü saran orman güllerinin yaprakları renk değiştirir. (II) İki bin metrenin altındaki orman örtüsü ise sarı ve kızılın en güzel tonlarına bürünerek bir renk cümbüşü yaşatar ziyaretçilerine. (III) Yaban hayvanlarının kış uykusuna yatma vakti geldiğinde, yaylacılar inek sütünden elde ettikleri katıkların "kadin" denilen ahşap saklama kaplarına koyarlar. (IV) Bu katıkların bir kısmı kışın köyde tüketilecek, bir kısmı da gurbetteki akrabalara gönderilecektir. (V) Evler toparlanır, yataklar "tacar" edilir, yani tavana asılır ve seneye tekrar buraya gelmek üzere yola çıkarılır.

Bu parçadaki numaralanmış cümlelerin hangisinde kişisel düşünceye yer verilmiştir?

- A) I. B) II. C) III. D) IV. E) V.

9. (I) Okul, gereksiz bir yığın bilginin öğretilmeye çalışıldığı, hayatla hiç ilgisi olmayan sanal bir gerçeklik değil, dünyayla bütünleşmenin önemli bir parçasıdır. (II) Gençler, insanlığın yüzlerce yıllık bilgi birikimine ulaşmak, insanlığın geleceğini oluşturmada gerekli donanıma sahip olabilmek için okula gider. (III) Bu bağlamda "Okula gidiyorum anne!" sözü aslında "Hayata gidiyorum anne!" diye anlaşılmalıdır. (IV) Çünkü araştırmayı seven, bilgiyi özümsemeyi ve kendini sürekli olarak yenilemeyi ilke edinmiş öğretmenlerin, çocuklara birtakım bilgileri öğretirken bir yandan da onları hayata hazırladıkları, saygın, kutsal bir yerdir orası. (V) Evrenin, insanın gizlerinin araştırıldığı; yaşamın bilinmeyenlerinin ortaya konulduğu, insanlıkla buluşulan bir yer...

Bu parçadaki numaralanmış cümlelerin hangisinde bir kavramın hem olumlu hem de olumsuz algılanışı birlikte verilmiştir?

- A) I. B) II. C) III. D) IV. E) V.

10. (I) Konya'nın 49 km güneybatısındaki Kilistra, henüz bütünüyle keşfedilmemiş bir hazine. (II) 1997'den beri kazıların devam ettiği yemyeşil bir doğanın ortasında, mağaralar ve yüksekteki kayalara oyulmuş odalar yer alıyor. (III) Dört yıl öncesine kadar köy halkı tarafından ahır ve depo olarak kullanılan bu mağara ve odalar, burayı ilk kez ziyaret eden bir fotoğrafçı tarafından fark edilmiş. (IV) Daha sonra yapılan kazılarda ortaya çıkarılarak içleri boşaltılmış. (V) Sit alanı ilan edilen köyde kazılar devam ediyor.

Kilistra antik kentinin anlatıldığı bu parçadaki numaralanmış cümlelerle ilgili olarak aşağıda verilenlerden hangisi yanlıştır?

- A) I. cümlede, bulunduğu yerle ilgili bilgi veriliyor.
B) II. cümlede, bulunanların neler olduğu açıklanıyor.
C) III. cümlede, bulunanların eski durumu dile getiriliyor.
D) IV. cümlede, kullanıma uygun hâle getirildiği belirtiliyor.
E) V. cümlede, korunmasına ilişkin alınan önlemlerden söz ediliyor.

11. (I) Bodrum Deniz Müzesi, yaklaşık bir buçuk ay önce açıldı. (II) Müzede, model tekneler, deniz kabukları ve Halikarnas Balıkçısı olarak da tanınan Cevat Şakir Kabaağaçlı ile ilgili bir köşe de yer alıyor. (III) Kabaağaçlı'ya ayrılan köşede; sanatçının kitapları, kullandığı teknenin modeli, hayatının anlatıldığı pano ve fotoğrafları var. (IV) Müzenin hediyelik eşyalar köşesi de bulunuyor. (V) Burada; içinde dondurulmuş denizatlarının bulunduğu anahtarlıklar, deniz kabuklarından yapılmış kutular, abajurlar ve lambalar ilgi çekiyor.

Bodrum Deniz Müzesi'nin anlatıldığı bu parçadaki numaralanmış cümlelerle ilgili olarak aşağıda verilenlerden hangisi yanlıştır?

- A) I. cümlede, hizmete girdiği zamanla ilgili bilgi veriliyor.
B) II. cümlede, nelerin sergilendiği konusunda açıklama yapılıyor.
C) III. cümlede, en önemli bölümünün hangisi olduğu belirtiliyor.
D) IV. cümlede, bir başka bölümünün daha olduğu dile getiriliyor.
E) V. cümlede, önceki cümlede sözü edilen ürünlerin adları sayılıyor.

12. 2011 yılının UNESCO tarafından Evliya Çelebi Yılı

I

olarak ilan edilmesinden sonra ülkemizde çeşitli etkinlikler, paneller, konferanslar düzenlendi.

Yüzyıllardır ihmal edilen büyük Türk gezgini, bu yıl

II

III

yapılan kimi çalışmalarla, etkinliklerle kamuoyuna tanıtılmaya çalışıldı. Bu kapsamda yapılan en önemli şey hiç şüphe yok ki *Seyahatname*'nin tam metninin

günümüz Türkçesi'ne çevrilmesi oldu.

IV

V

Bu parçadaki numaralanmış sözlerin hangisinde bir yazım yanlışı vardır?

- A) I. B) II. C) III. D) IV. E) V.

13. Sözcükler; tek başına cömert, kırılğan, güçlüdür.

Onların canlılık kazanması benim bakışıma , onlara

I

yükleyeceğim anlama bağlıdır. Sesim üzerlerine

sinmiştir. Aralarındaki ilişki , oluşturdukları

II

zenginlik , benim ruhumla ve eğilimlerimle

III

yoğrulmuştur. Ne var ki anlamca büyüü , sınırsız ve

IV

bu kadar esnek olmasalar , onları yönetme gücünü

V

kendimde bulamazdım.

Bu parçadaki numaralanmış virgüllerden hangisi yerinde kullanılmamıştır?

- A) I. B) II. C) III. D) IV. E) V.

14. Aşağıdaki cümlelerin hangisinde bir anlatım bozukluğu vardır?

- A) Bütün gün yağın yağmurun etkisiyle iş yerimizi sular bastılar.
 B) Kitabında, herkesin başından geçebilecek sıradan olayları ele aldı.
 C) Kardeşime bile anlatmadıklarımı ona anlattım.
 D) Sen de uzun zamandır aileni görmediğini söylemiş-tin.
 E) Toplantıda söylediklerimin doğru anlaşılmadığını düşündüm.

15. (I) Karadeniz Ereğlisi'nin tarihi, MÖ 2500'lere kadar uzanıyor. (II) Bölgedeki bilinen ilk yerleşim Hattiler tarafından yapılmış, daha sonra Hititler egemen olmuş. (III) Ardından, Truva Savaşlarından sonra Trakya'dan Anadolu'ya göçenlerin yerlerinden ettiği Mariandinler, yöreye yerleşmiş. (IV) MÖ 4. yüzyılda kent, en parlak dönemini yaşamış. (V) Geçmiş çağlardan kalan buradaki eserlerin bir kısmı korunamamış ve yok olup gitmiş.

Bu parçadaki numaralanmış cümlelerin hangisinde anlatım bozukluğu vardır?

- A) I. B) II. C) III. D) IV. E) V.

16. (I) Adını, mitolojideki çömlekçilik sanatının kurucusu sayılan Keramos'tan alan antik kentin izlerine bu küçük kasabanın her yerinde rastlanıyor. (II) Günümüze ulaşan bu kalıntılar, çoğunlukla Roma Dönemi'ne ait. (III) Anadolu'nun Türklerin eline geçtiği dönemde ise bu kasabanın, Gereme olan adı zamanla Ören'e dönüşmüş. (IV) Şair Melih Cevdet Anday'ın doğum yeri olan Ören'in turizm ve balıkçılık dışında en önemli gelir kaynağı halıcılık. (V) Bu konuda hatırı sayılır bir üne ulaşan Milâs halılarının bir bölümü, ilçeye bağlı belde-lerden birindeki kadınların hünerli elleriyle dokunuyor. (VI) Beldede çarşamba günleri kurulan yerel pazar, hem bu halıların hem de çeşitli el işlerinin satıldığı, kaçırılmaması gereken değişik bir ortam. (VII) Ege şivesinin egemen olduğu tınılarla dolu renkli bir dünya.

Bu parça iki paragrafa ayrılmak istense ikinci paragraf hangi cümleyle başlar?

- A) II. B) III. C) IV. D) V. E) VI.

17. (I) Kırk yıl önce ilk albümleri yayımlanan ve bu albümden sonra müzik dünyasıyla olan bağlarını koparan bir grup... (II) Kaldı ki onlar birçok dinleyicinin dünyasında özel bir yer tutarlar. (III) Buna karşılık onların bunca yıldır dinleyici toplayabilmesini nasıl açıklamalı? (IV) Ya da daha önce hiç yayımlanmamış şarkılarından birinin ortaya çıkmasının bu kadar heyecan yaratmasını... (V) Denebilir ki kimselerinkine benzemeyen bir tarz geliştirdiklerini yadsımak olanaksız. (VI) Bunun sonucu olarak, gerek albümlerinde gerekse konserlerinde yarattıkları hava, kesinlikle benzersiz.

Bu parçadaki numaralanmış cümlelerin hangisi düşüncenin akışını bozmaktadır?

- A) II. B) III. C) IV. D) V. E) VI.

18. (I) Şairler, yazarlar, müzisyenler, ressamalar... (II) Kıscası tüm sanatçılar... (III) Sıradan insanlar; korkularından, endişelerinden kaçarken sanatçılar, bunların içine balıklama dalarlar. (IV) İşte bu korkusuzca dalış sayesinde yapıtlarını oluştururlar. (V) Ne var ki bu cesurca tavır onların yaşamını oldukça zorlaştırır.

Bu parçadaki numaralanmış yerlerden hangisine düşüncenin akışına göre, "Yaşamı değişik yönleriyle kavrayan bu kişiler, dış dünyayı daha derin, duyguları daha yoğun yaşarlar." cümlesi getirilebilir?

- A) I. B) II. C) III. D) IV. E) V.

19. Bisikletime binip ovaya çıktığımda adanın büyük bir bölümü ayaklarımın altındaydı. Aşağıda göz alabildiğine uzanan bağlar, kıyıda küçük kayalıklar... Gözüm, geçmişteki o güzelim domates tarlalarını aradı. Adanın meşhur domates reçeli, bu tarlalarda yetişen yumurta biçimindeki küçük domateslerden yapılırdı. Ne yazık ki tarlaların yerini bağlar, bağevleri almıştı; iki yanım bağ, önüm çam ormanıydı. Poyraz, asma ve kurumuş ot kokusunu burnuma taşıyordu. Pek kullanılmayan eski yola saptım, adanın tek çam ormanının içinden geçen bakımsız yola girdim. Çukurların arasında zikzak yaparak yoluma güçlüklerle devam ettim.

Bu parçanın anlatımıyla ilgili olarak aşağıda verilenlerden hangisi yanlıştır?

- A) Eksiltili cümle kullanılmıştır.
- B) Nesnellik söz konusudur.
- C) Öykülemeye başvurulmuştur.
- D) Farklı duyu organlarıyla algılanan ayrıntılar vardır.
- E) Betimlemeye yer verilmiştir.

20. Daktilo, çocukluğumun büyüğü nesnesiydi. Babam yazmaya koyulduğunda benim dünyamdaki atlar yelelerini savurarak dörtnala koşmaya başlardı. Mürekkepli şerit ilerledikçe merdaneye sıkıştırılan kâğıttaki nal izleri harflere dönüşür, babamın parmakları arasındaki dizginler yazı bitene kadar esrarlı bir diyarın rüzgârıyla titrerdi. Kabartma harflerin şeride her çarpışındaki tık tıklarla yerinden oynardı yüreğim. Tuşlara vuruşun kuvvetine göre koyu ya da silik gölgeler düşerdi perdeye. Raylarda bir kara tren gördüm dumanlar çıkaran. Vagonları harflerle doluydu ve her istasyona birkaç cümle bırakmadan çalmazdı çanını. Satır sonlarını beklemek ise oyunun en heyecanlı yanıydı benim için.

Bu parçanın anlatımıyla ilgili olarak aşağıda verilenlerden hangisi yanlıştır?

- A) İzlenimsel bir havası vardır.
- B) Devrik cümleler kullanılmıştır.
- C) Deyim kullanılmıştır.
- D) Karşılaştırma yapılmıştır.
- E) Pekiştirmeli sözcüğe yer verilmiştir.

21. Her yıl artan bir kitap enflasyonu karşı karşıyayız. Örneğin ben, yayımlanan binlerce kitabın içinden ancak yüz, yüz ellisini okuyabiliyorum. Hakkında yazı yazabildiğim kitapların sayısı ise çok daha az. Önemli bulduğum birçok güzel kitabın sözünü edemeden yıl geçiyor. Öyle ki son yazılarımda, yıl içinde okuyup da sözünü edemediğim o iyi kitapların yalnızca adlarını anmakla yetindim.

Bu sözleri söyleyen kişi aşağıdakilerin hangisinden yakınmaktadır?

- A) Değerli kitapların azlığından
- B) İsteddiği kadar kazanç sağlayamayışından
- C) Başka işlerle uğraşamayışından
- D) Yeterli zaman bulamayışından
- E) Belirli yazarlara öncelik verme zorunluluğundan

22. Roman karakterleri, her gün karşılaşılabileceğimiz insanlarla aynı değerleri paylaşmak zorundadır. Bu değerler açısından bakıldığında insanlar ne tümüyle iyi ne de tümüyle kötüdür. Hırslarımız, tutkularımız, zaaflarımız ve erdemlerimizle insanız hepimiz. Romandakilerin de üstünlükleriyle zaafı dengelenmezse roman gerçekçi olmaz, okura uzak kalır. Bu nedenle içtenliğin en gerekli olduğu türlerden biridir bence roman.

Bu parçada roman karakterleriyle ilgili olarak asıl anlatılmak istenen aşağıdakilerden hangisidir?

- A) Olumlu ve olumsuz yönlerinden birine ağırlık verilmeden yansıtılmalıdır.
- B) Yaşanmış olayların içinden seçilerek oluşturulmalıdır.
- C) Her biri, farklı bir kişilik özelliğiyle yansıtılmalıdır.
- D) Gerçek yaşamdaki kişilerin davranışlarını etkileyici özellikler taşımalıdır.
- E) Duygu dünyaları gelişmişlik göstermelidir.

23. Ömer Seyfettin, edebiyatımızın en önemli yazarlarından biri. Tarihimizin sıkıntılı bir döneminde yaşayan ve 36 yıl gibi kısa bir ömre çok sayıda yapıt sığdıran Ömer Seyfettin, düşünce ve edebiyat dünyamızda silinmez izler bırakmıştır. Bu yapıt, zaman içinde aslından uzaklaşmış hikâyelerinin ve diğer yapıtlarının ilk baskılarına bakılarak hazırlanmış; yapıtların sıralamasında ilk yayın tarihleri esas alınmıştır. Millî Edebiyatın çok önemli ismi Ömer Seyfettin'in bütün yapıtlarının, ölümünden 79 yıl sonra bir arada yeniden yayımlanması sevindirici, darısı diğer yazarların başına!

Bu parçada Ömer Seyfettin ile ilgili olarak aşağıdakilerin hangisine değinilmemiştir?

- A) Değerli bir sanatçı olduğuna
- B) Yapıtlarının ilk biçiminin korunamadığına
- C) Oldukça üretken bir sanatçı olduğuna
- D) Kalıcı bir etki yarattığına
- E) Yaşadığı günlerde öneminin anlaşılmadığına

24. Eskiden, yazma yöntemlerine özendiğim kimi yazarlar vardı. Onların izine basarak yürür, onlardan daha iyi kitaplar yazmaya çalışırdım. Ne var ki uzun bir süredir farklı bir yol izliyorum, yeni bir yapıta başladığımda önceki yapıtlarımdan daha iyisini yazmaya çalışıyorum. Bazen de şansım iyi gidiyor ve beklediğimden de nitelikli yapıtlar çıkıyor ortaya.

Sanatçı, bu sözlerinde kendisiyle ilgili olarak aşağıdakilerin hangisine değinmemiştir?

- A) Bir dönemde, başarılı sanatçılarınkinden üstün ürünler vermeyi amaçladığına
- B) Her ürününde, bir öncekini aşmaya çalıştığına
- C) Kimi zaman umduğundan da düzeyli ürünler verdiğine
- D) Başkalarına öykünmenin yanlış olduğu kanısına vardığına
- E) Yaratılarında rastlantıların da payı olduğuna

25. At, tarih boyunca Türklerin değer verdiği hayvanların başında gelmiştir. Orta Asya steplerinden Anadolu topraklarına dek hemen tüm Türk toplumlarında, insanların vazgeçilmez dostu olmuştur. Türkler; atı hiçbir zaman yanlarından eksik etmemişler, ettikleri toprağı sürmek için sabanlara at koşmuşlar; savaşa, ava hemen her yere at üzerinde gitmişlerdir. Yüzlerce yıl öncesinden, Orta Asya'dan gelen; Anadolu'da Selçuklu ve Osmanlılarla devam ettirilen at geleneğı çevgen, cirit gibi ilginç oyunları da beraberinde getirmiştir. Orta Asya Türklerinde ise bir tür at yarışı olan "beyga" ya da "beyge"ler düzenlenmiştir. Bu sporlara doğumdan düğüne, şölen-den toya kadar hemen her kutlamada yer vererek onları zengin bir folklorik malzemeye dönüştürmüşlerdir.

Bu parçada atın, Türk toplumlarındaki yeriyle ilgili olarak aşağıdakilerden hangisine değinilmemiştir?

- A) Uzun bir süre yaşamlarında yer aldığına
- B) Farklı cinslerinin, farklı işleri gerçekleştirmekte kullanıldığına
- C) Pek çok alanda onlardan yararlandığına
- D) Törensel bir işlevi bulunduğuna
- E) Geniş bir coğrafyada kullanıldığına

26. Geleneksel konut dokusunda inanılmaz bir kültürel zenginlik ve derinlik barındıran bir kent görmek, kentsel dokuyu nasıl olur anlamak, öğrenmek için Midyat'a gidebilirsiniz. Sasaniler Devri'nde kurulduğu ileri sürülen Midyat, o tarihlerden beri birbirinden değişik kültürleri ve inançları dokusunda barındırıp yaşatıyor. Yani korunması, örnek alınarak gelecek kuşaklara aktarılması gereken bir kültürel mirasımız. Farklı dinlerden insanların bir arada yaşadığı bu tarihî yerleşim yerinde, ibadet mekânları ile hanlar, ticaret mekânları ve çok sayıda geleneksel konut, kendine has ve estetik bir dokunun içinde uyumlu kaynaşmış. Topoğrafyaya uygun olarak bitişik düzende tasarlanan konutlar, çoğunlukla bir avlu merkez alınarak konumlandırılmış yapı kanatlarının sıralanmasından oluşuyor. Kemerli pencereleri, avlu cephelelerinde ön planda duran eyvan kemerleri, Süryanice, Arapça ya da Türkçe yazıtlarıyla Midyat evleri "Başka Midyat yok." mesajı veriyor.

Bu parçada Midyat'la ilgili olarak aşağıdakilerin hangisine değinilmemiştir?

- A) Yoğun bir tarihî birikiminin olduğuna
- B) Ne türden yapılar bulunduğuna
- C) Yapılaşmada neyin ölçüt alındığına
- D) Benzerinin olmadığına
- E) Özgünlüğünü sürdürmek için yapılanlara

27. Hepimiz bu dünyaya, hayatımızı en iyi biçimde yaşamak için geliyoruz ve inanın bana, hayat küsererek, bir şeylerden saklanarak geçirilmeyecek, umutsuzluklarla harcanamayacak kadar kısa. Dertlerle ve sıkıntılarla boğuşurken her gün bir öncekinin aynısı gibi görünmeye başlıyor. Oysaki her yeni gün kendi mucizelerini de beraberinde getiriyor, hem de en beklenmedik anlarda.

Aşağıdakilerden hangisi bu parçada konuşan kişinin yaşama ilişkin düşüncelerinden biri değildir?

- A) Tadına varmak gerekir.
- B) Tekdüzeleştiğini öne sürenler vardır.
- C) Karamsarlıktan kaçınmak gerekir.
- D) Doğrularla yanlışların kaynağına inilmelidir.
- E) İçinde olağanüstü güzellikler barındırır.

28. Benim gibi birçok kitapseverin "çoksatan" yapıtlarla arasının iyi olmadığını biliyorum. Zaman zaman tutucu bir tavırla saf edebiyatın peşinde koşuyoruz. Genellikle popüler alanlarda "suyu çıkmış pazarlama ürünlerine" sırt çeviriyoruz. Bu türden sınırlı sayıdaki seçici okurlar gibi ben de kitap alırken, okurken titiz davranmaya özen gösteriyorum. Ama bunu yaparken ufkumu genişletmeyi, kütüphanemi zenginleştirmeyi, yeni şeyler öğrenmeyi de ihmal etmiyorum.

Aşağıdakilerden hangisi yazarın bu sözlerinden çıkarılamaz?

- A) Tanıtım yoluyla öne çıkan yapıtlar daha çok genç okurlara seslenir.
- B) Seçilen kitapların, kişinin gelişimine katkıda bulunması gerekir.
- C) Sanatsal değer taşıyan yapıtların çok okunduğundan söz edilemez.
- D) Kimi okurlar çok ilgi gören kitaplardan uzak durur.
- E) Bir yapıtın çok kişi tarafından satın alınması, onun nitelikli olduğunu göstermez.

29. Johann Wolfgang von Goethe, Alman edebiyatının olduğu kadar dünya edebiyatının da doruktaki adlarından biridir. Henüz yirmi beş yaşındayken, üstelik üç ay gibi kısa bir sürede kaleme aldığı *Genç Werther'in Acıları* adlı mektup roman, türünün ilk örneği olmakla kalmaz, genç Goethe'ye "Werther'in yazarı" unvanını kazandırır. O dönemde, Almanya'da bilhassa gençler arasında Werther'in giysilerinin aynısını giymek, Werther gibi yaşamak kısacası Werther hayranlığı dalga dalga yayılır. Yapıtın çevirilerinin yapılması, Goethe'nin dünya çapında ünlenmesine katkıda bulunur.

Bu parçaya göre Goethe için aşağıdakilerden hangisi söylenemez?

- A) Ünü, ülkesinin sınırlarını aşmıştır.
- B) Genç yaşta ünlenmiştir.
- C) Tanınmasını sağlayan yapıtında kendi yaşam serüvenini anlatmıştır.
- D) İnsanlar, ona hak ettiği değeri vermiştir.
- E) Yarattığı kahraman, çok geniş yankılar uyandırmıştır.

30. Yazar; öykülerini oluştururken çok değişik yollara başvuruyor, farklı damarlardan besleniyor. Bunların başında; dilin bütün dolambaçlarında gezinmesi, her semtine, her sokağına uğraması geliyor. Yazdıklarına buraların havasını yansıtmayı, zevkli bir anlatım düzeyi yakalamayı başarıyor. Ayrıca insanları da dilleri aracılığıyla algılayıp kuruyor. Onları öykü kişisi katına çıkarırken öyle bir dil kullanıyor ki kahramanlar o zaman bütünüyle belirginleşip ortaya çıkıyor. Bunu yaparken şairliğini de işin içine katıyor. Hatta öykülerini yer yer dizelerle zenginleştiriyor.

Bu parçaya göre aşağıdakilerden hangisi sözü edilen sanatçının bir özelliği değildir?

- A) Öyküleştirmede dili temel ölçüt alma
- B) Kuru bir öykülemeyle yetinmeme
- C) Farklı yazınsal türleri kaynaştırma
- D) Kurguyu fazla önemsememe
- E) Anlatımsal arayışlar içinde olma

31.

$$\frac{\frac{2}{5} - \frac{1}{2}}{\frac{1}{10}}$$

işleminin sonucu kaçtır?

- A) -100
- B) -1
- C) 1
- D) $\frac{1}{100}$
- E) $\frac{-1}{100}$

32.

$$0,3 - (0,08 + 0,02)$$

işleminin sonucu kaçtır?

- A) -0,7
- B) -0,4
- C) 0,2
- D) 0,24
- E) 0,29

33.

$$4! \cdot \left(\frac{1}{5!} - \frac{1}{6!} \right)$$

işleminin sonucu kaçtır?

- A) $\frac{2}{5}$
- B) $\frac{1}{6}$
- C) $\frac{3}{8}$
- D) $\frac{5}{9}$
- E) $\frac{4}{15}$

34.

$$\sqrt{27} + \sqrt{48} - \sqrt{75}$$

işleminin sonucu kaçtır?

- A) $-\sqrt{3}$ B) $-\sqrt{5}$ C) $\sqrt{6}$
D) $2\sqrt{5}$ E) $2\sqrt{3}$

35.

$$\sqrt{1+\frac{1}{5}} \cdot \sqrt{1+\frac{1}{4}} \cdot \sqrt{1+\frac{1}{3}}$$

çarpımının sonucu kaçtır?

- A) $\sqrt{2}$ B) $2\sqrt{2}$ C) $\sqrt{3}$
D) $2\sqrt{3}$ E) $3\sqrt{3}$

36.

$$5^{x-1} = 2$$

olduğuna göre, 5^{2x-1} ifadesinin değeri kaçtır?

- A) 4 B) 10 C) 16 D) 20 E) 25

37.

$$x + 2y = 4$$

$$3x - y = 2$$

olduğuna göre, $\frac{x}{y}$ oranı kaçtır?

- A) $\frac{3}{5}$ B) $\frac{4}{5}$ C) $\frac{2}{7}$
D) $\frac{9}{7}$ E) $\frac{15}{7}$

38. x, y sıfırdan ve birbirinden farklı gerçel sayılar olmak üzere,

$$x - y = L$$

$$\frac{1}{x} - \frac{1}{y} = K$$

olduğuna göre, $x \cdot y$ çarpımının K ve L türünden eşiti aşağıdakilerden hangisidir?

- A) $K+L$ B) $K-L$ C) $K \cdot L$
D) $\frac{K}{L}$ E) $\frac{-L}{K}$

- 39.

$$x - \frac{1}{x} = \frac{3}{2}$$

denklemini sağlayan x gerçel sayılarının toplamı kaçtır?

- A) $\frac{3}{2}$ B) $\frac{5}{2}$ C) $\frac{1}{3}$
D) $\frac{4}{3}$ E) $\frac{5}{4}$

- 40.

$$\frac{x^2y + x + y + y^2x}{x^2y + x - y - y^2x}$$

ifadesinin sadeleştirilmiş biçimi aşağıdakilerden hangisidir?

- A) $\frac{1}{x+y}$ B) $\frac{x}{x+y}$
C) $\frac{y}{x-y}$ D) $\frac{x+y}{x-y}$
E) $\frac{x-y}{x+y}$

41. Sıfırdan farklı a ve b gerçel sayıları için

$$|a \cdot b| = -a \cdot b$$

eşitliği sağlanıyor.

Buna göre,

- I. a pozitif ise b pozitiftir.
- II. b pozitif ise a negatiftir.
- III. a negatif ise b negatiftir.

ifadelerinden hangileri doğrudur?

- A) Yalnız I B) Yalnız II C) I ve III
D) II ve III E) I, II ve III

42. $\frac{-1}{2} < x < 0$ olmak üzere,

$$A = x^2$$

$$B = (x+1)^2$$

$$C = (x-1)^2$$

olduğuna göre, aşağıdaki sıralamalardan hangisi doğrudur?

A) $A < B < C$

B) $A < C < B$

C) $B < A < C$

D) $C < A < B$

E) $C < B < A$

43. A, B ve C birbirinden farklı rakamlar olmak üzere,

$$A \cdot B \cdot C = 6$$

koşulunu sağlayan üç basamaklı ABC doğal sayıları oluşturuluyor.

Bu şekilde oluşturulabilecek sayıların en büyüğü ile en küçüğünün toplamı kaçtır?

A) 727

B) 633

C) 534

D) 552

E) 444

44.

$$f(x) = 3x - 4$$

$$g(2x - 1) = x - 2$$

olduğuna göre, $(f \circ g)(5)$ değeri kaçtır?

A) 3

B) 4

C) 5

D) -2

E) -1

45. Gerçek sayılar kümesi üzerinde bir $*$ işlemi her x, y gerçel sayısı için

$$x * y = 2x + 2y - x^2 y^2$$

biçiminde tanımlanıyor.

Buna göre, $(-1) * 2$ işleminin sonucu kaçtır?

A) -6

B) -4

C) -2

D) 3

E) 6

46. A ve B herhangi iki küme olmak üzere,

$$s(A \setminus B) = 11$$

$$s(A \cup B) = 21$$

$$s(A) = s(B) + 5$$

olduğuna göre, $s(A \cap B)$ kaçtır?

- A) 2 B) 3 C) 4 D) 5 E) 6

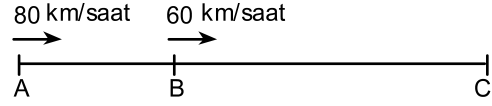
47.

$$A = \{-1, 0, 1, 2\}$$

kümesinin tüm iki elemanlı alt kümeleri içinden seçilen bir kümenin elemanları toplamının bir pozitif tam sayıya eşit olma olasılığı kaçtır?

- A) $\frac{1}{2}$ B) $\frac{1}{3}$ C) $\frac{2}{3}$
D) $\frac{1}{4}$ E) $\frac{3}{4}$

48.



A ve B kentlerinden aynı anda saatte 80 km ve 60 km sabit hızla hareket eden iki araç, 6 saat sonra aynı anda C kentine varıyor.

Buna göre, A ile B kentleri arasındaki uzaklık kaç km'dir?

- A) 60 B) 80 C) 100 D) 120 E) 140

49.

Bir memur; maaşının $\frac{1}{8}$ 'i ile faturalarını, $\frac{1}{5}$ 'i ile de ev kirasını ödemiştir.

Bu ödemelerden sonra memurun maaşından geriye 1350 TL kaldığına göre, ev kirası kaç TL'dir?

- A) 400 B) 450 C) 480 D) 500 E) 540

50. 3,5 litre portakal suyu, 2,5 litre nar suyu ve 2 litre havuç suyu ile hazırlanan meyve suyu karışımının 1 litresinde kaç litre havuç suyu vardır?

- A) 0,125 B) 0,2 C) 0,25
D) 0,375 E) 0,4

51. İki arkadaşın birlikte yaptığı bir kahvaltıda Ahmet, Figen'den 1 bardak fazla çay içmiş ve bu iki arkadaş içtikleri çaylara toplam 18 şeker atmıştır.

Bir bardak çaya Ahmet 3 şeker, Figen ise 2 şeker attığına göre, Figen kaç bardak çay içmiştir?

- A) 1 B) 2 C) 3 D) 4 E) 5

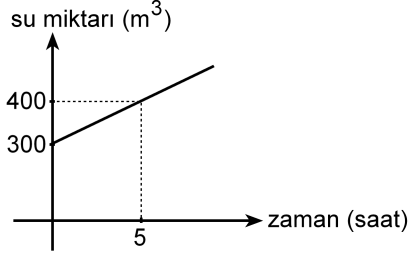
52. Aşağıdaki tabloda, bir şirketin yatırım yaptığı alanlara göre ayırdığı para miktarı ve bu miktarın toplam yatırım içerisindeki yüzdesi verilmiştir.

Yatırım yapılan alan	Ayrılan para miktarı (milyon TL)	Yüzdesi (%)
Eğitim		
Gıda	24	
Tekstil		40
İnşaat	16	20
TOPLAM		100

Buna göre, bu şirket eğitim yatırımı için kaç milyon TL ayırmıştır?

- A) 5 B) 6 C) 7 D) 8 E) 9

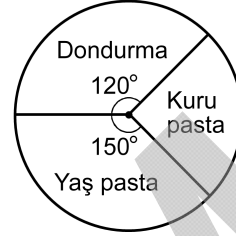
53. Aşağıdaki doğrusal grafikte, başlangıçta içinde 300 m^3 su bulunan bir havuzdaki su miktarının zamana göre değişimi gösterilmiştir.



Bu havuza su akmaya başladıktan 8 saat sonra havuzda kaç m^3 su olur?

- A) 440 B) 460 C) 480 D) 500 E) 520

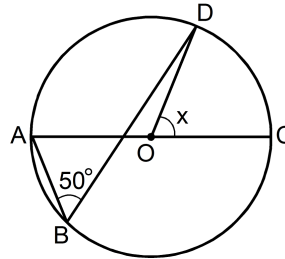
54. Bir pastanede bir günde 3 kg dondurma, 4 kg kuru pasta ve 5 kg yaş pasta satılmıştır. Bu satıştan elde edilen kârın ürün çeşidine göre dağılımı aşağıdaki daire grafiğinde verilmiştir.



Buna göre, 1 kg dondurma satışından elde edilen kâr, 1 kg yaş pasta satışından elde edilen kârın kaç katıdır?

- A) $\frac{5}{3}$ B) $\frac{4}{3}$ C) $\frac{3}{5}$
D) $\frac{4}{5}$ E) $\frac{6}{5}$

- 55.

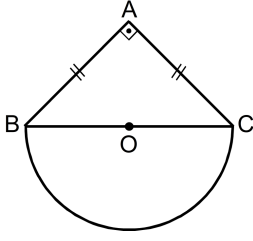


O merkezli çember
[AC] çemberin çapı
A, B, C ve D noktaları
çember üzerinde
 $m(\widehat{ABD}) = 50^\circ$
 $m(\widehat{DOC}) = x$

Yukarıdaki verilere göre, x kaç derecedir?

- A) 40 B) 50 C) 65 D) 75 E) 80

56.



O merkezli yarım çember

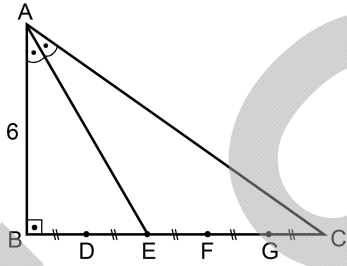
[BC] çemberin çapı

ABC bir ikizkenar dik
üçgen $BA \perp AC$ $|BA| = |AC|$

Şekildeki ABC üçgeninin alanı 50 cm^2 olduğuna göre, yarım dairenin alanı kaç cm^2 dir?

- A) 15π B) 20π C) 25π D) 30π E) 40π

57.



ABC bir dik üçgen

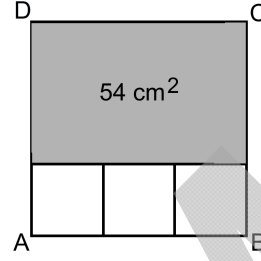
 $AB \perp BC$ $m(\widehat{BAE}) = m(\widehat{EAC})$ $|AB| = 6 \text{ cm}$

Yukarıdaki şekilde, BC doğru parçası 5 eş parçaya bölünmüştür.

Buna göre, $|BC|$ uzunluğu kaç cm'dir?

- A) $2\sqrt{5}$ B) $3\sqrt{5}$ C) $4\sqrt{5}$
D) 8 E) 12

58. ABCD karesi biçimindeki bir arazi, şekildedeki gibi bir dikdörtgen ve üç eş kare biçimindeki dört parsel ayrılıyor.



Dikdörtgen parselin alanı 54 cm^2 olduğuna göre, arazinin çevresi kaç cm'dir?

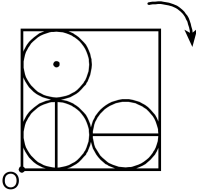
- A) 24 B) 28 C) 32 D) 36 E) 40

59. Dik koordinat düzlemindeki bir karenin köşegenlerinin kesim noktası orijindedir.

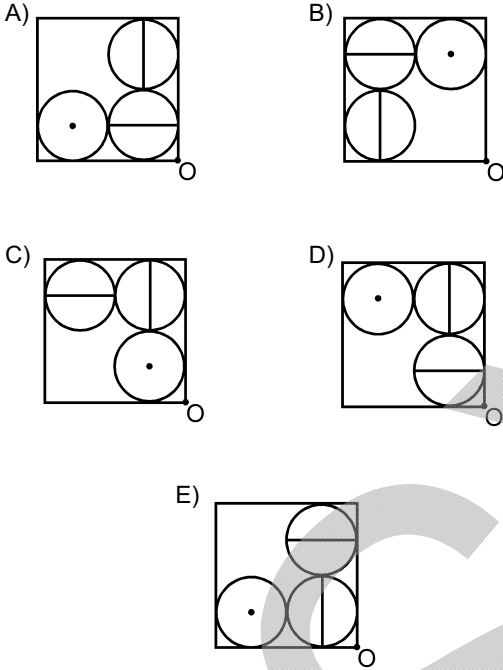
Her bir köşesinin orijine olan uzaklığı 6 birim olan bu karenin alanı kaç birim karedir?

- A) 72 B) 54 C) 48 D) 36 E) 24

60.



Yukarıdaki şekil, O noktası etrafında ok yönünde 270° döndürüldüğünde aşağıdaki görünümünden hangisi elde edilir?



61. Aşağıdakilerden hangisi tarih boyunca Türk adına verilen anlamlardan biri değildir?

- A) Güç, kuvvet B) Olgunluk
C) Miğfer D) Gürz
E) Törelî, nizam sahibi

62. 744-840 yılları arasında hüküm süren, başkentleri Ötüken olan, hükümdarları arasında Kutluk Bilge Kül Kağan, Moyen-Çur, Böğü Kağan bulunan ve kültürel faaliyetler açısından zengin Türk devleti aşağıdakilerden hangisidir?

- A) Hun B) Göktürk C) Uygur
D) Batı Hun E) Avar

63.

- I. Karahanlılar
II. Gazneliler
III. Büyük Selçuklular

Yukarıdaki Türk-İslam devletlerinin hangilerinde resmî yazışmalarda ve edebî eserlerde Türkçenin kullanılmasına önem verilmiştir?

- A) Yalnız I B) Yalnız II C) Yalnız III
D) I ve II E) II ve III

64. Aşağıdakilerden hangisi Anadolu Selçukluları ve Beylikler Dönemi'ne ait medreselerden biri değildir?

- A) Sivas Gök
B) Erzurum Çifte Minareli
C) Konya Karatay
D) Kırşehir Cacabey
E) İstanbul Semaniye

65. Osmanlı Devleti'nde bilinen ilk kanunname olan Kanunname-i Âl-i Osman aşağıdaki padişahlardan hangisi döneminde düzenlenmiştir?

- A) Yıldırım Bayezit
- B) Fatih Sultan Mehmet
- C) Yavuz Sultan Selim
- D) Kanuni Sultan Süleyman
- E) II. Selim

66. Trablusgarp Savaşı sırasında Osmanlı Devleti'nin bu savaşa gönüllü katılan subaylarını geri çağırarak durdurulmasını sağlayan nedeni aşağıdakilerden hangisidir?

- A) Trablusgarp'la kara bağlantısının kalmaması
- B) Deniz gücünün zayıf olması
- C) Oniki Ada'nın işgal edilmesi
- D) Balkan Savaşı'nın başlaması
- E) Rodos'un işgal edilmesi

67. Wilson İlkelerine göre yeniden kurulması planlanan devlet aşağıdakilerden hangisidir?

- A) Karadağ
- B) Polonya
- C) Romanya
- D) Makedonya
- E) Sırbistan

68. Aşağıdakilerden hangisi, 1911 yılında İttihat ve Terakki Cemiyetine karşı kurulmuş ve Mondros Anlaşması'ndan sonra Millî Mücadele'ye karşı faaliyette bulunmuştur?

- A) Hürriyet ve İtilaf Partisi
- B) İslam Teali Cemiyeti
- C) İngiliz Muhipleri Cemiyeti
- D) Mavri Mira Cemiyeti
- E) Osmanlı Ahrar Partisi

69. Çıkardıkları Fransızca Le Pays (Vatan) ve Türkçe Hadisat gazeteleri ile doğu illerinin Türk yurdunun ayrılmaz bir parçası olduğunu savunan cemiyet aşağıdakilerden hangisidir?

- A) Vilâyât-ı Şarkiye Müdafaa-i Hukuk-ı Milliye
- B) Trabzon Muhafaza-i Hukuk-ı Milliye
- C) Trakya-Paşaeli Müdafaa-i Hukuk
- D) Kilikyalılar
- E) Millî Kongre

70. Aşağıdakilerden hangisi IX. Ordu Müfettişliği göreviyle Samsun'a gönderilen Mustafa Kemal'in yetkili olduğu illerden biri değildir?

- A) Sivas
- B) Van
- C) Trabzon
- D) Erzurum
- E) Urfa

71. Millî Mücadele Dönemi'nde her türlü etki ve denetimden uzak millî bir heyetin oluşturulması aşağıdakilerden hangisinde öngörülmüştür?

- A) Balıkesir Kongresi'nde
- B) Amasya Genelgesi'nde
- C) Alaşehir Kongresi'nde
- D) Edirne Kongresi'nde
- E) Havza Genelgesi'nde

72. Sivas Kongresi'nin ardından İstanbul Hükûmetiyle Anadolu arasındaki her türlü ilişkinin kesilmesinin,

- I. Damat Ferit Paşa'nın istifa etmesi,
- II. Amasya Görüşmelerinin yapılması,
- III. Temsilciler Kurulunun Ankara'ya gelmesi

gelişmelerinden hangilerinde etkili olduğu savunulabilir?

- A) Yalnız I
- B) Yalnız II
- C) Yalnız III
- D) I ve II
- E) II ve III

73. Misakımillî'de aşağıdaki yerlerin hangisinde halk oyuna başvurulması yönünde bir hüküm yoktur?

- A) Doğu Trakya
- B) Batı Trakya
- C) Ardahan
- D) Kars
- E) Batum

74. Daha önce gizli anlaşmalarla İtalya'ya vadedilen Anadolu topraklarının bir bölümünün Yunanistan'a verilmesi aşağıdakilerin hangisinde karara bağlanmıştır?

- A) Helsinki Konferansı
- B) Sykes-Picot Anlaşması
- C) Paris Konferansı
- D) Londra Konferansı
- E) Berlin Kongresi

75. Aşağıdakilerden hangisi TBMM tarafından 1920 yılında imzalanan antlaşmalardan biridir?

- A) Moskova
- B) Afgan Dayanışma
- C) Ankara
- D) Kars
- E) Gümrü

76. Lozan Barış Görüşmelerinde Türkiye'yi yalnızca TBMM Hükûmetinin temsil etmesi olanağı aşağıdakilerin hangisiyle sağlanmıştır?

- A) Halifeliğin kaldırılmasıyla
- B) Cumhuriyet'in ilan edilmesiyle
- C) Saltanatın kaldırılmasıyla
- D) Ankara'nın başkent ilan edilmesiyle
- E) Takrîr-i Sükûn Kanunu'nun çıkarılmasıyla

77. Aşağıdakilerden hangisiyle tarımda verimin artırılmasının amaçlandığı savunulabilir?

- A) Maden Tetkik ve Arama Enstitüsünün kurulması
- B) Topraksız çiftçiye toprak verilmesi hakkında kanun çıkarılması
- C) Etibankın kurularak faaliyete geçirilmesi
- D) Gümrük Tarife Kanunu'nun çıkarılması
- E) Kabotaj Kanunu'nun çıkarılması

78. Aşağıdakilerden hangisi, Atatürk Dönemi'nde açılan Halkevlerinin sunduğu hizmetlerden biri değildir?

- A) Okuma yazma öğretmek için kurslar düzenlenmesi
- B) Yöresel değerleri tanıtmak amaçlı dergi yayımlanması
- C) Dikiş, nakış gibi çeşitli beceri kursları düzenlenmesi
- D) Sağlık kurallarının öğretilmesi ve uygulanması
- E) Türkçenin sadeleşmesi için gereken esasların ve yöntemlerin belirlenmesi

79. Aşağıdakilerden hangisi laiklik ilkesinin yerleşmesi amacıyla gerçekleştirilen uygulamalardan biri değildir?

- A) Tekke, zaviye ve türbelerin kapatılması
- B) Tevhid-i Tedrisat Kanunu'nun çıkarılması
- C) Şapka Kanunu'nun çıkarılması
- D) Türk Tarih Kurumunun kurulması
- E) Halifeliğin kaldırılması

80. 1882-1964 yılları arasında yaşayan; Kurtuluş Savaşı başlayınca Anadolu'ya geçerek Millî Mücadele'ye katılan; 1950-1954 yılları arasında milletvekili olan; *Ateşten Gömlek, Türk'ün Ateşle İmtihanı, Dağa Çıkan Kurt* gibi romanlarında Kurtuluş Savaşı'nı işleyen yazar aşağıdakilerden hangisidir?

- A) Halide Edip Adıvar
- B) Yakup Kadri Karaosmanoğlu
- C) Ali Fuat Cebesoy
- D) Kâzım Karabekir
- E) Falih Rıfkı Atay

81. Coğrafi konum, matematik ve özel konum olarak ikiye ayrılır.

Buna göre aşağıdakilerden hangisi Türkiye'nin matematik konumuna bağlı olarak ortaya çıkan bir sonuçtur?

- A) Asya ve Avrupa kıtaları arasında bir köprü konumunda olması
- B) Süveyş Kanalı yoluyla Kızıldeniz üzerinden Hint Okyanusu'na bağlantısı olması
- C) Aynı anda farklı iklim özelliklerinin yaşanabilmesi
- D) Kuzeyden esen rüzgârların sıcaklığı düşürmesi
- E) Sıcaklık farklarının kıyı kesimlerde daha az olması

82.

- I. Hava basıncının yükselmesine
- II. Güney yönlü rüzgârların etkili olmasına
- III. Yoğun sislerin görülmesine
- IV. Asor alçak basınç merkezinin etkisinde kalmasına

Türkiye’de, yaz aylarında zaman zaman sıcaklığın mevsim normallerinin üstüne çıkması yukarıdakilerden hangilerine bağlıdır?

- A) Yalnız I B) Yalnız II C) I ve III
D) II ve IV E) III ve IV

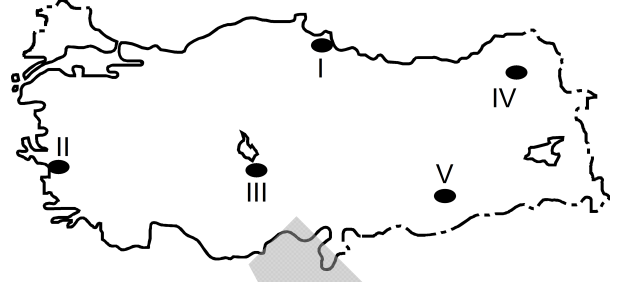
83.

- I. Yağışlı gün sayısının fazla olması
- II. Bağıl nem oranının yıl boyunca yüksek olması
- III. Kıyı şeridinin dar olması
- IV. Bitki örtüsünün ormanlardan oluşması

Karadeniz’in kıyı kesiminde yıllık ortalama güneşlenme süresinin az olmasında yukarıdakilerden hangileri etkilidir?

- A) I ve II B) I ve III C) II ve III
D) II ve IV E) III ve IV

84.



Dış kuvvetlerin etkisiyle başka yerlerden getirilen topraklara taşınmış topraklar denir.

Buna göre yukarıda numaralarla gösterilen yerlerden hangilerinde taşınmış toprakların daha fazla olması beklenir?

- A) I ve II B) II ve III C) II ve IV
D) III ve IV E) IV ve V

85. Aşağıdakilerden hangisi Türkiye’de iç göçlerin nedenlerinden biri değildir?

- A) Tarım topraklarının miras yoluyla bölünmesi
B) Makineli tarım yöntemlerinin yaygınlaşması
C) Hızlı nüfus artışı nedeniyle geçim kaynaklarının yetersiz kalması
D) Genç nüfusun fazla olması
E) Büyük kentlerde konut sayısının fazla olması

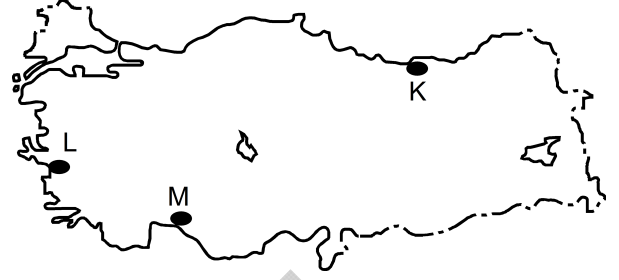
86. Ekonomik özellikleri göz önüne alındığında aşağıdakilerden hangisi tarım, endüstri ve turizm etkinliklerinin en yoğun görüldüğü karma bölgedir?

- A) Burdur-Isparta çevresi
- B) Elazığ-Malatya çevresi
- C) Adana-Mersin çevresi
- D) Artvin-Ardahan çevresi
- E) Giresun-Ordu çevresi

87. Aşağıdakilerden hangisi Karadeniz Bölgesi'nin kıyı kesiminde yapılan önde gelen ekonomik etkinlikler içinde yer almaz?

- A) Çarşamba Ovası'nda çeltik yetiştirmek
- B) Rize çevresindeki yaylalarda arıcılık yapmak
- C) Sinop'ta kıyı balıkçılığı yapmak
- D) Bolu çevresinde büyükbaş hayvancılıkla uğraşmak
- E) Giresun'da kümes hayvancılığı yapmak

88.



Yukarıdaki Türkiye haritasında kıyı çizgisi üzerinde gösterilen K, L, M noktalarının tümü için

- I. kıyı şekli
- II. yükselti
- III. ulusal saat
- IV. bitki türü

özelliklerinden hangileri ortaktır?

- A) I ve II
- B) I ve III
- C) II ve III
- D) II ve IV
- E) III ve IV

89. Aşağıda verilen endüstri kuruluşlarından hangisinde kullanılan ham maddenin tamamı bölge dışından karşılanır?

- A) Seydişehir Alüminyum Tesisleri
- B) Hamitabat Doğal Gaz Çevrim Santrali
- C) Bozüyük Seramik Fabrikası
- D) Aliğa Petrol Rafinerisi
- E) Yatağan Termik Santrali

90. Coğrafi konumları ve fiziki özellikleri göz önüne alındığında aşağıdaki illerden hangisinde yerleşme üst sınırının daha yüksek olması beklenir?

- A) Antalya
B) Şanlıurfa
C) Konya
D) Afyonkarahisar
E) Erzurum

91. Türkiye’de tarımda makine kullanımının yaygınlaşmasına karşın bazı bölgelerde insan ve hayvan gücüne duyulan gereksinim tam olarak ortadan kalkmamıştır.

Aşağıdakilerden hangisi bu durumun sebeplerinden değildir?

- A) Tarım alanlarının yerleşme ve endüstri tesislerine ayrılması
B) Kırsal kesimdeki küçük işletmelerde iş gücünün ucuz olması
C) Birçok tarım işletmesinin, makineli tarımın ekonomik olmayacağı kadar küçük olması
D) Tarımsal araç ve gereç fiyatlarının bazı çiftçilerin satın alma gücünün üzerinde olması
E) Tarım alanlarının makine kullanımına elverişli olmayacak kadar engebeli olması

92. Türkiye’de ekonomik ve sosyal farklılıkları azaltmak amacıyla uygulanan politikalardan en yaygını "Kalkınmada Öncelikli Yörelere" plan ve proje çalışmalarıdır.

Aşağıdakilerden hangisi bu yerler arasındaki farklılığı azaltmak için hazırlanan çalışmalardan biri değildir?

- A) Tarımsal etkinliklerin geliştirilmesi
B) Milli parkların sayıca artırılması
C) Kültürel kalkınmaya önem verilmesi
D) Sanayi ve ticaret etkinliklerinin geliştirilmesi
E) Altyapı yatırımlarının artırılması

93. 1982 Anayasası’na göre, aşağıdakilerden hangisi Anayasa’nın değiştirilemez hükümlerinden biri **değildir**?

- A) Sosyal devlet ilkesi
B) Başkentin Ankara olması
C) Millî marşının "İstiklal Marşı" olması
D) Anayasa’nın üstünlüğü ilkesi
E) Hukuk devleti ilkesi

94. 1982 Anayasası’na göre, TBMM’nin genel ve özel af ilanına karar verebilmesi için aranan çoğunluk aşağıdakilerden hangisidir?

- A) Toplantıya katılan üyelerin salt çoğunluğu
B) Üye tam sayısının üçte ikisi
C) Üye tam sayısının salt çoğunluğu
D) Toplantıya katılan üyelerin üçte iki çoğunluğu
E) Üye tam sayısının beşte üç çoğunluğu

95. 1982 Anayasası’na göre, aşağıdakilerden hangisi Başbakanın görev ve yetkilerinden biri **değildir**?

- A) Millî Güvenlik Kuruluna katılmak
B) Bakanlıklar arasında iş birliğini sağlamak
C) Bakanların görevlerine son verilmesini teklif etmek
D) Tüzük çıkarmak
E) Bakanlar Kuruluna başkanlık etmek

96. 1982 Anayasası'na göre, olağan dönem kanun hükmünde kararnameleriyle ilgili aşağıdaki ifadelerden hangisi yanlıştır?

- A) Bakanlar Kurulu tarafından çıkarılır.
- B) TBMM tarafından bir yetki kanunu ile kanun hükmünde kararname çıkarılmasına izin verilmelidir.
- C) Kanunlarda deęişiklik yapamaz.
- D) Resmî Gazete'de yayımlandıkları gün TBMM'ye sunulur.
- E) Esas ve şekil bakımından Anayasa'ya uygunlukları Anayasa Mahkemesi tarafından denetlenir.

97. 1982 Anayasası'na göre, Cumhurbaşkanı katılmadığı zamanlarda Millî Güvenlik Kuruluna aşağıdakilerden hangisi başkanlık eder?

- A) Meclis Başkanı
- B) Başbakan
- C) Millî Savunma Bakanı
- D) Genelkurmay Başkanı
- E) İçişleri Bakanı

98. 1982 Anayasası'na göre, TBMM tarafından bir milletvekilinin milletvekilliğinin düşürülmesine ilişkin olarak verilen kararın iptali için aşağıdakilerden hangisine başvurulur?

- A) Anayasa Mahkemesi
- B) Yüksek Seçim Kurulu
- C) Cumhurbaşkanı
- D) Danıştay
- E) TBMM Başkanlığı

99. 1982 Anayasası'na göre, Cumhurbaşkanının seçimi ile ilgili aşağıdaki ifadelerden hangisi yanlıştır?

- A) Halk tarafından seçilir.
- B) Cumhurbaşkanı seçilen kişinin varsa partisi ile ilişkisi kesilir.
- C) Bir kimse iki defa Cumhurbaşkanı seçilemez.
- D) Cumhurbaşkanı seçilen kişinin TBMM üyeliği sona erer.
- E) Cumhurbaşkanı seçilebilmek için Türk vatandaşı olmak gerekir.

100. 1982 Anayasası'na göre, aşağıdakilerden hangisinin Anayasa Mahkemesinde iptal davası açma yetkisi yoktur?

- A) Cumhurbaşkanı
- B) İktidar partisi meclis grubu
- C) Ana muhalefet partisi meclis grubu
- D) TBMM üye tam sayısının beşte biri tutarındaki üye
- E) Bakanlar Kurulu

SINAVDA UYULACAK KURALLAR

- Cep telefonu ile sınava girmek kesinlikle yasaktır.** Çağrı cihazı, telsiz, fotoğraf makinesi vb. araçlarla; cep bilgisayarı, kol ya da cep saati gibi her türlü bilgisayar özelliği bulunan cihazlarla; silah ve benzeri teçhizatla; müsvedde kâğıdı, defter, kitap, sözlük, sözlük işlevi olan elektronik aygıt, hesap cetveli, hesap makinesi, pergel, açılabilir, cetvel vb. araçlarla sınava girmek kesinlikle yasaktır. Bu araçlarla sınava girmiş adayların adı mutlaka Salon Sınav Tutanağına yazılacak, bu adayların sınavı geçersiz sayılacaktır. **Sınava kalem, silgi, kalemıraş, saat vb. araçla ve kulaklık, küpe, broş vb. takı, herhangi bir metal eşya ile girmek de kesinlikle yasaktır. Yiyecek, içecek vb. tüketim malzemeleri de sınava getirilemez. Adaylar sınava şeffaf şişe içerisinde su getirebilecektir.**
- Bu sınav için verilen toplam cevaplama süresi **120 dakikadır.** Sınav başladıktan sonra **ilk 90** ve **son 15** dakika içinde adayın sınavdan çıkmasına kesinlikle izin verilmeyecektir. **Bu süreler dışında, cevaplamaı sınav bitmeden tamamlarsanız cevap kâğıdınızı ve soru kitapçığınızı salon görevlilerine teslim ederek salonu terk edebilirsiniz.**
- Sınav salonundan ayrılan aday, her ne sebeple olursa olsun, tekrar sınava alınmayacaktır.**
- Sınav süresince görevlilerle konuşmak, görevlilere soru sormak yasaktır. Aynı şekilde görevlilerin de adaylarla yakından ve alçak sesle konuşmaları ayrıca adayların birbirinden kalem, silgi vb. şeyleri istemeleri kesinlikle yasaktır.
- Sınav sırasında, görevlilerin her türlü uyarılarına uymak zorundasınız. Sınavınızın geçerli sayılması, her şeyden önce, sınav kurallarına uymanıza bağlıdır. Kurallara aykırı davranışta bulunanların ve yapılacak uyarılara uymayanların kimlik bilgileri Salon Sınav Tutanağına yazılacak ve sınavları geçersiz sayılacaktır.
- Sınav sırasında kopya çeken, çekmeye kalkışan, kopya veren, kopya çekilmesine yardım edenlerin kimlik bilgileri Salon Sınav Tutanağına yazılacak ve bu adayların sınavları geçersiz sayılacaktır. Görevliler kopya çekmeye ya da vermeye kalkışanları uyararak zorunda değildir, sorumluluk size aittir.
Adayların test sorularına verdikleri cevapların dağılımları bilgi işlem yöntemleriyle incelenecek, bu incelemelerden elde edilen bulgular bireysel ya da toplu olarak kopya çekildiğini gösterirse kopya eylemine katılan adayın/adayların sınavı geçersiz sayılacaktır.
Sınav görevlileri bir salondaki sınavın, kurallara uygun biçimde yapılmadığını, toplu kopya girişiminde bulunulduğunu raporlarında bildirdiği takdirde, ÖSYM takdir hakkını kullanarak bu salonda sınava giren tüm adayların sınavını geçersiz sayabilir.
- Cevap kâğıdında doldurmanız gereken alanlar bulunmaktadır. Bu alanları doldurunuz. Cevap kâğıdınızı başkaları tarafından görülmeyecek şekilde tutmanız gerekmektedir. Cevap kâğıdına yazılacak her türlü yazıda ve yapılacak bütün işaretlemelerde salon görevlisinin atacağı imzalar hariç, kurşun kalem kullanılacaktır. Sınav süresi bittiğinde cevapların cevap kâğıdına işaretlenmiş olması gerekir. Soru kitapçığına işaretlenen cevaplar geçerli değildir.
- Soru kitapçığınızı alır almaz kapağında bulunan ilgili alanlara kimlik bilgilerinizi yazınız. Sayfaları eksik olup olmadığını, kitapçıkta basım hatalarının bulunup bulunmadığını ve soru kitapçığının her sayfasında basılı bulunan soru kitapçık numarasının, kitapçığın ön kapağında basılı soru kitapçık numarasıyla aynı olup olmadığını kontrol ediniz. Soru kitapçığının sayfası eksik ya da basımı hatalıysa değiştirilmesi için Salon Başkanına başvurunuz.
Size verilen soru kitapçığının numarasını cevap kâğıdınızdaki "Soru Kitapçık Numarası" alanına yazınız ve kodlayınız. Cevap kâğıdınızdaki "Soru kitapçık numaramı doğru kodladım." kutucuğunu işaretleyiniz.
Soru kitapçığı üzerindeki Soru Kitapçık Numarasını doğru kodladığınızı beyan eden alanı imzalayınız ve salon görevlisinin, kodlamanın doğru yapıldığını beyan eden hem soru kitapçığındaki hem de cevap kâğıdınızdaki ilgili alanı imzaladığından emin olunuz. Salon görevlisi imzasını tükenmez kalemle atmalıdır.
- Sınav sonunda soru kitapçıkları toplanacak ve ÖSYM'de tek tek incelenecektir. Soru kitapçığının bir sayfası bile eksik çıkarsa sınavınız geçersiz sayılacaktır.
- Cevap kâğıdına ve soru kitapçığına yazılması ve işaretlenmesi gereken bilgilerde bir eksiklik ve/veya yanlışlık olması hâlinde sınavınızın değerlendirilmesi mümkün olamamaktadır, sorumluluk size aittir.
- Soru kitapçığının sayfalarındaki boş yerleri müsvedde için kullanabilirsiniz.
- Soruları ve/veya bu sorulara verdiğiniz cevapları ayrı bir kâğıda yazıp bu kâğıdı dışarı çıkarmanız kesinlikle yasaktır.
- Sınav salonundan ayrılmadan önce, soru kitapçığınızı ve cevap kâğıdınızı salon görevlilerine teslim etmeyi unutmayınız.

Bu testlerin her hakkı saklıdır. Hangi amaçla olursa olsun, testlerin tamamının veya bir kısmının Merkezimizin yazılı izni olmadan kopya edilmesi, fotoğrafının çekilmesi, herhangi bir yolla çoğaltılması, yayımlanması ya da kullanılması yasaktır. Bu yasağa uymayanlar gerekli cezai sorumluluğu ve testlerin hazırlanmasındaki mali külfeti peşinen kabullenmiş sayılır.

2012 – JANDARMA OKULLAR KOMUTANLIĞI
JANDARMA ASTSUBAY TEMEL KURSU GİRİŞ SINAVI (JANA)

14 NİSAN 2012

- | | | | |
|-------|-------|-------|--------|
| 1. D | 26. E | 51. C | 76. C |
| 2. C | 27. D | 52. D | 77. B |
| 3. B | 28. A | 53. B | 78. E |
| 4. E | 29. C | 54. B | 79. D |
| 5. B | 30. D | 55. E | 80. A |
| 6. A | 31. B | 56. C | 81. D |
| 7. C | 32. C | 57. B | 82. B |
| 8. B | 33. B | 58. D | 83. A |
| 9. A | 34. E | 59. A | 84. A |
| 10. D | 35. A | 60. A | 85. E |
| 11. C | 36. D | 61. D | 86. C |
| 12. D | 37. B | 62. C | 87. E |
| 13. E | 38. E | 63. A | 88. C |
| 14. A | 39. A | 64. E | 89. D |
| 15. B | 40. D | 65. B | 90. E |
| 16. C | 41. B | 66. D | 91. A |
| 17. A | 42. A | 67. B | 92. B |
| 18. C | 43. E | 68. A | 93. D |
| 19. B | 44. E | 69. A | 94. E |
| 20. E | 45. C | 70. E | 95. D |
| 21. D | 46. C | 71. B | 96. C |
| 22. A | 47. C | 72. D | 97. B |
| 23. E | 48. D | 73. A | 98. A |
| 24. D | 49. A | 74. C | 99. C |
| 25. B | 50. C | 75. E | 100. E |