



2012 MALİYE BAKANLIĞI  
İÇ DENETİM KOORDİNASYON KURULU  
İÇ DENETÇİ ADAY BELİRLEME SINAVI  
GENEL YETENEK VE GENEL KÜLTÜR TESTİ  
ALAN BİLGİSİ TESTİ  
FRANSIZCA TESTİ  
20 EKİM 2012

T.C. KİMLİK NUMARASI	:														
ADI	:														
SOYADI	:														
SALON NO.	:											SIRA NO.:			
<b>Soru kitapçık numarasının cevap kâğıdına kodlanmamasının veya yanlış kodlanmasının sorumluluğu adaya aittir.</b>															
SORU KİTAPÇIK NUMARASI :	<b>TEMEL SORU KİTAPÇIĞI</b>					Bu numarayı cevap kâğıdınızdaki ilgili alana kodlamayı unutmayınız.									

**DİKKAT! SINAV BAŞLAMADAN ÖNCE AŞAĞIDAKİ UYARILARI MUTLAKA OKUYUNUZ.**

1. T.C. Kimlik Numaranızı, Adınızı, Soyadınızı, Salon Numaranızı ve Sıra Numaranızı, Soru Kitapçığı üzerindeki ilgili alanlara yazınız.
2. Soru Kitapçık Numaranız yukarıda verilmiştir. Bu numarayı cevap kâğıdınızdaki ilgili alana kodlayınız ve aşağıdaki ilgili alanı imzalayınız. Salon görevlisinin de hem soru kitapçığındaki hem de cevap kâğıdınızdaki ilgili alanı imzalamasını sağlayınız. Bu kodlamayı cevap kâğıdınıza yapmadığınız veya yanlış yaptığınız takdirde, sınavınızın değerlendirilmesi mümkün değildir.
3. Bu sayfanın arkasında yer alan açıklamayı dikkatle okuyunuz.

**Adayın imzası:**

Soru kitapçık numarasını doğru kodladım.

**Salon görevlisinin imzası:**

Adayın soru kitapçık numarasını cevap kâğıdına doğru kodladığını onaylıyorum.

## AÇIKLAMA

1. Bu kitapçıkta, Genel Yetenek ve Genel Kültür Testi, Alan Bilgisi Testi ve Fransızca Testi bulunmaktadır.
2. Bu sınav için verilen toplam cevaplama süresi **150 dakikadır (2,5 saat)**.
3. Bu kitapçıkta testlerde yer alan her sorunun sadece bir doğru cevabı vardır. Bir soru için birden çok cevap yeri işaretlenmişse o soru yanlış cevaplanmış sayılacaktır.
4. Değiştirmek istediğiniz bir cevabı, size verilen silgiyle, cevap kâğıdını örselemeden, temizce siliniz ve yeni cevabınızı işaretlemeyi unutmayınız.
5. Bu sınavın değerlendirilmesi doğru cevap sayısı üzerinden yapılacak, yanlış cevaplar dikkate alınmayacaktır. Bu nedenle, her soruda size en doğru görünen cevabı işaretleyerek cevapsız soru bırakmamanız yararınıza olabilir.
6. Cevaplamaya istediğiniz sorudan başlayabilirsiniz. Bir soru ile ilgili cevabınızı, cevap kâğıdında o soru için ayrılmış olan yere işaretlemeyi unutmayınız.
7. Sınavda uyulacak diğer kurallar bu kitapçığın arka kapağında belirtilmiştir.

1. Bu testte 60 soru vardır.

2. Cevaplarınızı, cevap kâğıdının Genel Yetenek ve Genel Kültür Testi için ayrılan kısmına işaretleyiniz.

1. 19. yüzyılda Avrupa'da şiir yaşamı oldukça hareketliydi. Bu dönemde insanlar ışığı kendi içine, yüzüne tutmak istemekte, kendine olan güvensizliğin kaçınılmaz kıldığı bir taşkınlık yaşamaktaydı.

**Bu parçada altı çizili söze, Avrupalılarla ilgili olarak vurgulanmak istenen aşağıdakilerden hangisidir?**

- A) Birtakım değerleri anımsatmak  
B) Geleneksel şiiri reddetmek  
C) Geldikleri noktayı sorgulamak  
D) Şiiri özgünleştirmeye çalışmak  
E) Benliğini öne çıkarmak

2. Gerçek (yaşanmış) ile fantastik (düş ürünü) olanı  
I II  
aynı inandırıcılıkla kaynaştırıp bir de anlatılanların  
tümünü doğal hayatın iz düşümleri gibi yansıtan,  
tuhaf, yadırgatıcı kurmaca biçimi başlangıçta  
inanılır gibi gelmemişti. Neden sonra yirminci yüzyılın  
önemli bir parçasının gerçekliğini sıra dışı (alışılmıştan  
III  
farklı olan) bir yetkinlikle (gerekli olgunluğa ulaşma)  
IV  
yansıttığı için klasikleşen (zamana karşı değerini  
V  
yitirmeyen) *Yüzyıllık Yalnızlık*, kendinden sonra gelen  
yazarları da kendine yakışır biçimde etkiledi.

**Bu parçadaki numaralanmış sözlerden hangisinin araç içinde verilen açıklaması yanlıştır?**

- A) I. B) II. C) III. D) IV. E) V.

3. (I) Ünlü bir hikâyedir. (II) Hollywood'da Şarlo'yu en iyi taklit eden sanatçıyı bulmak için bir yarışma düzenlemişler. (III) Yarışmaya gizlice Şarlo da katılmış. (IV) Otuz kırk kişinin içinde ancak dokuzuncu olabilmiş. (V) Ona dokuzunculuğu layık görenler bu işin bütün bütün yabancıları değil, zamanında sinema dünyasının ileri gelenleri, uzmanları güya.

**Bu parçadaki numaralanmış cümlelerin hangisinde olumsuz bir eleştiri söz konusudur?**

- A) I. B) II. C) III. D) IV. E) V.

4. (I) Savur'un en eski tarihli konağı Hacı Abdullah Bey'in adını taşıyor. (II) Ağustos böceklerinin durmaksızın ıslık çaldığı kapkaranlık bir gecede, yokuşun sonundaki düzlüğe aracımızı bırakıp konağa yöneliyoruz. (III) Rehberimiz, konağın eski sahibinin torunu aynı zamanda yeni ev sahibi Abdulhalim. (IV) 1850'de inşa edilen yapının heybetli, büyük sofasına giriyoruz. (V) Duvar kenarları boyunca yerleştirilmiş divanlar, salonun tasarımındaki sanat ve simetri, değerli eşyalar, zengin armağanlar, bey konağında bulunduğumuzu yeniden anımsatıyor. (VI) Kusursuz tasarımla döşenmiş salon baş döndürücü. (VII) Dört bir yanı görülmeye değer nakışlarla bezenmiş, üzerine dantelli örtü konmuş, altın yaldızlı bardaklar dizili, gömme ahşap dolaplar, içeriği aydınlatmaya yetecek sık pencereler...

**Bu parçadaki numaralanmış cümlelerin hangisinde öznellik yoktur?**

- A) I. ve III. B) I. ve V. C) II. ve IV.  
D) II. ve VI. E) III. ve VII.

5. (I) II. Dünya Savaşı'nda bombalanan tüm Alman şehirleri gibi Bonn'da da pek çok tarihî bina yeniden yapılmış. (II) Fakat Beethoven'ın doğduğu ev bombalardan, yangınlardan korunmuş. (III) Bonn Sokağı'ndaki evi ve çevresindeki birkaç yapıyı 12 müziksever 1889'da satın alıp müzeye dönüştürmüş, yönetimini kurulan vakfa teslim etmiş. (IV) Bugün dünyada Beethoven'ın notalarının bulunduğu en büyük arşiv bu binada. (V) Evde, hayattayken ve ölümünde alınan yüz kalıpları, kilisede çaldığı ilk orgu, son piyanosu, gözlüğü, makası ve bir tutam saç sergileniyor.

**Bu parçadaki numaralanmış cümlelerle ilgili olarak aşağıda verilenlerden hangisi yanlıştır?**

- A) I. cümlede, yapılarıdaki ortak yana değinilmiştir.  
B) II. cümlede, bir yapının ötekilerden farkı dile getirilmiştir.  
C) III. cümlede, bir yapıyla ilgili mimarî özellikler sıralanmıştır.  
D) IV. cümlede, karşılaştırma yapılmıştır.  
E) V. cümlede, anlatılan evde yer alan eşyalar sıralanmıştır.

6. (I) 800'lü yıllarda yaşamış büyük Fransız Kralı Şarلمان'ın gözdesi ve 1000'li yıllarda Avrupa ticaret yollarının kesiştiği konumuyla bir incidir Province. (II) 2001 yılından beri UNESCO'nun Dünya Mirası Listesi'nde yer alan şehir, 11-13. yüzyıllar arasında Orta Çağ askerî, sivil ve dinî mimarisinin en güzel örneklerini barındırıyor içinde. (III) Günümüzde bu yapıların çevresini güzelleştiren güller, Haçlı Seferleri sırasında Doğu'dan getirilmiş. (IV) Kanuni ile mektuplaşmasıyla ünlü Kral 1. François ve Paris'teki şehircilik çalışmasıyla tanınan Kral 4. Henry, Province güllerinin kurutulmuş taç yapraklarıyla doldurulmuş yastıklar üzerinde uyurmuş. (V) Victor Hugo'dan Honoré de Balzac'a, Marcel Proust'tan Umberto Eco'ya kadar birçok büyük yazarın eserlerinde güllerin süslediği şehirden söz etmeleri boşuna değil.

**Bu parçadaki numaralanmış cümlelerle ilgili olarak aşağıda verilenlerden hangisi yanlıştır?**

- A) I. cümlede, bir benzetmeye başvurulmuştur.  
B) II. cümlede, karşılaştırma yapılmıştır.  
C) III. cümlede, dikkat çekici bir özellikten söz edilmiştir.  
D) IV. cümlede, şehrin tarihî önemi dile getirilmiştir.  
E) V. cümlede, bu şehrin edebiyatta yer alışıyla ilgili bilgi verilmiştir.

7. Göksu <sup>I</sup> Ağva'da denize dökülmeden önce tepelerin <sup>II</sup> vadilerin <sup>III</sup> ormanların arasından geçer. Mart <sup>IV</sup> nisan bu bölgelerde mor çuhanın <sup>V</sup> kardelenin zamanıdır.

**Bu parçadaki numaralanmış virgüllerden (,) hangisinin işlevi ötekilerden farklıdır?**

- A) I. B) II. C) III. D) IV. E) V.

8. Buraya yaşam veren akarsularla birbirinden ayrılmış yamaçlar, bahçelerle kaplı. Bahçelerdeki meyve çeşitliliği dikkat çekici. Kayısı, elma, armut, ayva, erik, dut, vişne ağaçları ve bağlar görüyoruz. Asırlık heybetli ceviz ağaçları göze çarpıyor. Kuşburnu, böğürtlen, alıç bitkilerinin de üzeri meyve dolu. Anlaşılan burada toprak oldukça verimli ve iklim de epeyce uygun.

**Bu parçayla ilgili olarak aşağıda verilenlerden hangisi yanlıştır?**

- A) Sayıp dökmelere yer verilmiştir.  
B) Çıkarım yapılmıştır.  
C) Eksiltili cümle vardır.  
D) Nitelendirmelerden yararlanılmıştır.  
E) Betimleme söz konusudur.

9. Resim sanatının dünyaca ünlü isimlerini Türkiye'deki sanatseverlerle buluşturan İstanbul'daki müze, bu kez çok daha önemli eserlere ev sahipliği yapıyor. Kısa süre önce açılan ve "Monet'nin Bahçesi" adını taşıyan sergide, izlenimcilik akımının kurucusu Monet'nin eserleri yer alıyor. "Belki de ressam olmayı çiçeklere borçluyum." diyen Monet, kendi elleriyle oluşturduğu ve resimlerinin ilham kaynağı olan Giverny Bahçesi'yle aile yaşamına odaklanıyor. Bu bahçede gün ışığının her anını, çiçeklerin üzerindeki yansımalarını yoklamak için tekerlekli bir arabayla 6-7 tablo birden taşımış sanatçı. Gün ışığının eğimine göre, yaptığı tabloyu da değiştirmiş. Şimdi sanatçının bahçesindeki çiçekler "Monet'nin Bahçesi" adlı sergiyle İstanbul Boğazi'nde izleyicilere gülümsüyor.

**Bu parçanın anlatımıyla ilgili olarak aşağıdakilerden hangisi söylenemez?**

- A) Alıntıya başvurulmuştur.  
B) Neden-sonuç bildiren cümle kullanılmıştır.  
C) Karşılaştırmadan yararlanılmıştır.  
D) İkileme kullanılmıştır.  
E) Kişileştirmeye başvurulmuştur.

10. Yazarlık, duygu ve düşünceleri anlatabilmek için doğru sözcükleri arama bulma işidir bir bakıma. Duyumsadıklarımın beni aşan derinliğiyle sözcüklerimin yetersizliği arasında yaşadığım gerilimi ancak ----.

**Bu parçada boş bırakılan yere aşağıdakilerden hangisi getirilebilir?**

- A) dilin olanaklarını kullanma becerimi geliştirerek aşabileceğimi biliyordum
- B) yapıtlar arasında tür ayrımı yapmadan giderebileceğimi düşünüyordum
- C) yapıtlarımda çeşitli konulara yer vererek azaltacağımın farkındaydım
- D) yazarlar arasındaki samimi ilişkileri takip ederek hafifletebileceğimi seziyordum
- E) yapıtın içeriğini bilimsel olarak denetledikten sonra yok edeceğimden emindim

11. Kafka'nın yapıtlarındaki evren, her uğrayışta değişen bir vitrin gibidir. Her uğrayana farklı bir anlam sunmaktadır. Bunları keşfederken okur; sınırları, kuralları, kalıpları aşan uçsuz bucaksız bir alanda dolaşarak özgürleşir.

**Aşağıdakilerden hangisi, bu parçada anlatılanlarla anlamca uyusmaktadır?**

- A) Kafka'nın yapıtları çağını aşan yöntem ve tekniklerle yazıldığından bunların anlaşılması zordur.
- B) Zaman geçtikçe, anlayışlar değiştikçe yapıt da değişime uğrayacak, iletisi farklılaşacak, yeni yeni anlamlar üretecektir.
- C) Birçok metin vardır ki varlığı fark edilmemiştir, henüz ışığı dünyaya ulaşmamış yıldızlar gibi.
- D) Bir yazarı özel kılan, yaşamındaki arayışları, ruhsal çıkmazları yapıtına başarıyla yansıtabilmesidir.
- E) Güçlü eleştirmen, bir dedektif titizliği ile yapıttaki her izin peşine düşer, her objeye ışık tutar, aydınlanır ve aydınlatır.

12. Oğuz Atay'ın *Eylembilim*'i, Ahmet Hamdi Tanpınar'ın *Aydaki Kadın*'i gibi kimi yapıtlar yazarlarının ömürleri yetmediği için yarım kalmıştır. Bu yazarların ne düşlediğini merak edenler için bu yarım kalmış metinler ayrı bir anlam taşır. Yazarın ölümü, insanın ölümlü olduğu gerçeğini farklı bir düzlemde hatırlatır. Her ölüm, geride tamamlanmamış bir hayat bırakır. Ödenmemiş faturalar, bitirilmemiş işler, gidilmemiş randevular, gerçekleştirilmemiş hayaller... Ancak yazarın ölümü farklıdır. Geride, yarım kalmış yapıtlar, henüz yazılmamış kitaplar vardır. Bu yazarımız da geride iki adet tamamlanmamış kitap bıraktı. Tabii bunlara defterlerini, notlarını, çevirilerini, denemelerini de eklemek gerek. Yazarın geride bıraktıklarının listesi ne kadar kabarık olursa olsun mutlaka yazamadıklarından oluşan bir liste de vardır. Hele ölen yazar genç bir yaştaysa...

**Bu sözler aşağıdaki sorulardan hangisine karşılık olarak söylenmiş olabilir?**

- A) Erken yaşta kaybettiğimiz yazarımızın son yapıtı hakkındaki görüşleriniz nelerdir?
- B) Yazarlarımızın yaşamlarının erken yaşta son bulmasının edebiyat üzerindeki etkisinden söz eder misiniz?
- C) Eksik bırakılmış yapıtlar ve yaşamlar size ne düşündürüyor?
- D) Genç yazarların ölmesi neden daha çok yankı uyandırır?
- E) Yazarımızın eksik kalan bu yapıtını, edebiyatımızdaki diğer yarım kalan yapıtlarla edebî yönden karşılaştırır mısınız?

13. 3-3,5 yaşları, çocuğun anaokuluna başlaması için en uygun dönemdir. Yaygın olarak bilinenin aksine kardeşleri olan ve annesi çalışmayan çocuklar da anaokuluna muhakkak gönderilmelidir. Bunun, çocuk üzerinde pek çok olumlu etkisi vardır. Okul öncesi eğitimi öncelikle çocuğa paylaşmayı öğretir. Paylaşım, sosyal ve özel hayatın olmazsa olmazlarından. Ayrıca bu eğitim çocuğun öz güvenini geliştirir. Öz güveni artan ve paylaşma duygusuyla tanışan çocuk, arkadaşları arasında daha çok sevilir; bu da onu mutlu eder. Bu eğitimi alan çocuklar, anne bağımlılığından kurtulurlar, bağımlı kişilik riskinden uzak olurlar. Ayrıca zihinsel gelişmeleri daha hızlı, sosyalleşmeleri daha sağlıklı olur.

**Bu parçada okul öncesi eğitimin çocuklara sağladığı yararlar arasında aşağıdakilerden hangisine ver verilmemiştir?**

- A) Düşünme ve algılama gücünü kısa sürede artırdığına
- B) Okulda üstün başarı göstermeyi sağladığına
- C) Kendi kararlarını verebilen bir birey olmasına yardım ettiğine
- D) Başkalarıyla sağlıklı ilişkiler kurmasını kolaylaştırdığına
- E) Kendisinden başka insanların da varlığını benimseyip kabul etmesini sağladığına

14. Kişi başına düşen zeytinyağı tüketimi bakımından Türkiye, zeytinyağı üreten ülkeler arasında en sonda yer alıyor. Akdeniz havzasındaki ülkelerden İtalya ve İspanya'da 12, Yunanistan'da 20 kg olan yıllık kişi başı zeytinyağı tüketimi, Türkiye'de yalnızca 1 kg olduğundan üreticiler iç pazarda sıkıntı yaşıyor. Üretim potansiyeli ve ürünün kalitesiyle önemli bir zeytinyağı ülkesi olan Türkiye'de, üreticilerin bir araya gelerek güç birliği oluşturması ve fındıkta olduğu gibi tanıtım ve bilinçlendirme projesi geliştirilmesi gerektiği üzerinde duruluyor.

**Zeytinyağından söz edilen bu parçayla ilgili olarak aşağıda verilenlerden hangisi yanlıştır?**

- A) Satışların artırılmasına yönelik bir görüş dile getirilmektedir.
- B) Sorun karşılaştırmalı olarak açıklanmaktadır.
- C) Ülkemizdeki ortalama tüketim miktarı belirtilmektedir.
- D) En çok hangi ülkelerde tüketildiği belirtilmektedir.
- E) Pazarlamadaki sıkıntıyla ilgili açıklama yapılmıştır.

15. Giderek çetrefilleşen, ayrıntıya daha fazla gömülen, buna paralel bir şekilde temposu artan, telaşlı hayatları yaşar olduk. Hayatımız gittikçe daha çok anahtarlar, prizler, fişler, kablolar ve illa da düğmeler ve tuşlarla kuşatılıyor. Sabah uyanışımızdan akşam yatışımıza kadar, hiç hesap ettik mi kaç tane tuşa dokunarak yaşamak zorunda olduğumuzu? Ve hiç düşündük mü her tuşa dokunabilme becerisini edinebilmek için onlarla ilgili bir sürü ayrıntıyı zihnimizde tutabilmek için ne kadar vakit harcadığımızı? Zihnimizin, düğmeler ve tuşların fonksiyonlarını birbirinden ayırt edebilmek ve günlük hayatımızı yaşamak için onları kullanabilme becerisini pratiğe dökme çabasıyla kaç bin parçaya bölündüğünü?

**Bu parçada aşağıdakilerden hangisine değinilmemiştir?**

- A) Gelişmelerin, birtakım güçlükleri de beraberinde getirdiğine  
 B) Yaşama ayak uydurabilmek için zamana ihtiyaç duyulduğuna  
 C) Kişilerin, istedikleri hayatları değil de kendilerine sunulan hayatı yaşadığına  
 D) Otomatikleşen hayatın her geçen gün daha da sıkıntılı bir hâl aldığına  
 E) Günümüzde yaşam koşullarının insanları sıradanlığa ittiğine

16.

$$\frac{\left(1 - \frac{1}{3}\right)^{-2}}{\left(1 - \frac{1}{2}\right)\left(1 + \frac{1}{2}\right)}$$

**işleminin sonucu kaçtır?**

- A)  $-\frac{1}{4}$  B)  $-1$  C)  $\frac{3}{2}$  D) 3 E) 6

17. 
$$\frac{9! + 9! + 9!}{9! + 8! + 7!}$$

**işleminin sonucu kaçtır?**

- A)  $\frac{8}{3}$  B)  $\frac{3}{5}$  C)  $\frac{7}{5}$  D)  $\frac{9}{7}$  E)  $\frac{9}{8}$

18. Gerçek sayılar kümesi üzerinde  $\oplus$  ve  $*$  işlemleri, her  $x$  ve  $y$  gerçek sayısı için

$$x \oplus y = 2x - 3y + x \cdot y$$

$$x * y = \frac{x}{4} \oplus \frac{y}{2}$$

biçiminde tanımlanıyor.

**Buna göre,  $4 * \left(\frac{1}{3} \oplus \frac{1}{2}\right)$  işleminin sonucu kaçtır?**

- A)  $-\frac{2}{3}$  B)  $\frac{3}{2}$  C)  $\frac{5}{3}$  D)  $\frac{8}{3}$  E)  $\frac{7}{2}$



19. N doğal sayılar kümesi olmak üzere,

$$A = \{3n - 2 : 1 \leq n \leq 8, n \in \mathbb{N}\}$$

kümesinin elemanları toplamı kaçtır?

- A) 80    B) 84    C) 92    D) 96    E) 102

20. x ve y birer tam sayı olmak üzere,

$$-2 < x < 10$$

$$-5 < y < 6$$

olduğuna göre,  $\frac{3x}{2} - \frac{2y}{3}$  ifadesinin alabileceği

en büyük tam sayı değeri kaçtır?

- A) 10    B) 11    C) 14    D) 15    E) 16

21. a, b ve c birer pozitif tam sayı olmak üzere,

$$\frac{a}{b} = \frac{1}{2}$$

$$\frac{b}{c} = \frac{3}{4}$$

oranları veriliyor.

$c^2 - b^2 - a^2 = 76$  olduğuna göre, b kaçtır?

- A) 8    B) 12    C) 16    D) 18    E) 24

22.  $x + \sqrt{x} - 3 = 0$

olduğuna göre,  $x^2 - 7x + 8$  ifadesinin değeri kaçtır?

- A) 0    B) 1    C) 2    D) -2    E) -1

23. Bir kutuda kırmızı, mavi ve siyah olmak üzere üç renkte kalem vardır. Kırmızı kalem sayısı; mavi kalem sayısından 3 fazla, siyah kalem sayısından ise 2 eksiktir.

**Buna göre, kutuda en az kaç kalem vardır?**

- A) 7 B) 8 C) 9 D) 10 E) 11

24. Bir işe eleman alımı için iki günlük başvuru süresi veriliyor. Birinci gün 60 kişinin başvuru yaptığı ve bunların % 30'unun kadın olduğu, ikinci gün ise 30 kişinin başvuru yaptığı ve bunların hepsinin erkek olduğu görülüyor.

**Buna göre, bu iş için başvuru yapanların yüzde kaç kadındır?**

- A) 10 B) 20 C) 30 D) 40 E) 80

25. Ayşe ve Bora bir işi birlikte çalışarak 4 günde bitirebilmektedir. Birlikte işe başlayıp 1 gün çalıştıktan sonra Ayşe işi bırakıyor; Bora 9 gün daha çalışarak işi bitiriyor.

**Buna göre, Ayşe işin tamamını kaç günde bitirir?**

- A) 6 B) 8 C) 9 D) 10 E) 12

26. Bir otoyoldaki iki gişeden bir günde geçen binek ve ticari araç sayısıyla ilgili şunlar bilinmektedir:

- 1. gişeden geçen binek araç sayısı, 1. gişeden geçen ticari araç sayısının 3 katıdır.
- 2. gişeden geçen binek araç sayısı, 2. gişeden geçen ticari araç sayısının 4 katıdır.
- 1. gişeden geçen ticari araç sayısı, 2. gişeden geçen ticari araç sayısının 2 katıdır.

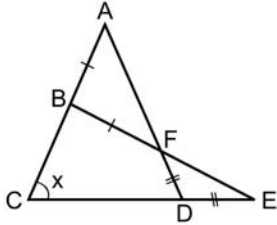
**Bu iki gişeden geçen binek ve ticari araç sayısı toplam 520 olduğuna göre, 2. gişeden geçen araç sayısı kaçtır?**

- A) 180 B) 200 C) 240 D) 260 E) 280

27. İki zar aynı anda atıldığında üst yüze gelen sayılar toplamının 10 olma olasılığı kaçtır?

- A)  $\frac{1}{36}$  B)  $\frac{1}{30}$  C)  $\frac{1}{18}$  D)  $\frac{1}{15}$  E)  $\frac{1}{12}$

28.



ACD ve BCE birer üçgen

$$|AB| = |BF|$$

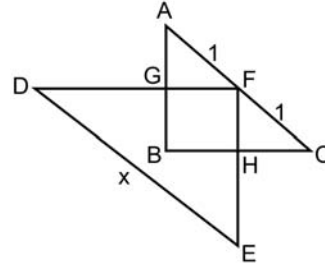
$$|FD| = |DE|$$

$$m(\widehat{ACE}) = x$$

Yukarıdaki şekilde  $|AC| = |AD|$  olduğuna göre,  $x$  kaç derecedir?

- A) 60 B) 64 C) 72 D) 75 E) 80

29.



ABC ve DEF birer üçgen

BHFG bir dikdörtgen

$$|AF| = |FC| = 1 \text{ cm}$$

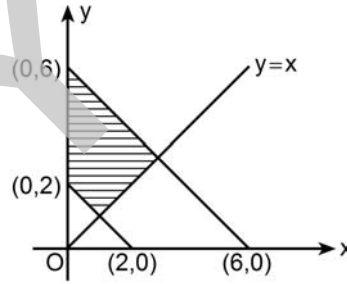
$$|DE| = x$$

Yukarıdaki şekilde  $2|FH| = |HE|$  ve  $2|FG| = |DG|$ 'dir.

Buna göre,  $x$  kaç cm'dir?

- A) 3 B) 4 C)  $\frac{7}{2}$  D)  $\frac{9}{2}$  E)  $\frac{9}{4}$

30.



Dik koordinat düzleminde verilen taralı bölgenin alanı kaç birim karedir?

- A) 6 B) 8 C) 9 D) 10 E) 12

31. Balkan Savaşlarının, Osmanlı Devleti'nde aşağıdakilerden hangisine neden olduğu savunulamaz?

- A) Ülke içinde göç hareketlerinin yoğunlaşmasına
- B) Türk milliyetçiliğinin güçlenmesine
- C) İttihat ve Terakki Partisinin ülkenin yönetimini tümüyle ele geçirmesine
- D) İslamcılık düşüncesinin uygulanmaya başlamasına
- E) Merkezî yönetimin saygınlığını kaybetmesine

32. Aşağıdakilerden hangisi, İngiltere'nin desteğini alan cemiyetlerden biri değildir?

- A) Kilikyalılar
- B) İslam Teali
- C) İngiliz Muhipleri
- D) Kürt Teali
- E) Pontus

33. Amasya Genelgesi (22 Haziran 1919) ile "Sivas'taki kongreye katılmak için bütün sancaklardan halkın güvenini kazanmış üç temsilci en kısa zamanda yola çıkmalıdır." kararı alınmıştır.

Bu kararın aşağıdakilerin hangisini amaçladığı savunulabilir?

- A) İşgalcilerin baskısını azaltmak
- B) Bir meclis oluşturmak
- C) Millet iradesini hâkim kılmak
- D) İstanbul Hükûmetinin güvenini kazanmak
- E) Temsilciler Kuruluna üye seçmek

34. Atatürk, "Millî irade yalnız bir şahsın düşüncesinden değil, bütün millet fertlerinin birleşmesinden ibarettir." demiştir.

Atatürk'ün bu sözüyle vurguladığı "millî irade etrafında birleşme" fikrinin aksine olduğu söylenebilecek gelişme aşağıdakilerden hangisidir?

- A) Sivas Kongresi'nin toplanması
- B) Saltanat Şûrasının toplanması
- C) Büyük Millet Meclisinin açılması
- D) Son Osmanlı Mebusan Meclisinin toplanması
- E) TBMM'nin, ülkenin her yerinden seçilen temsilcilerden oluşması

35. Son Osmanlı Mebuslar Meclisi seçimlerinde Mustafa Kemal, aşağıdaki illerin hangisinden milletvekili seçilmiştir?

- A) Erzurum
- B) Sivas
- C) Ankara
- D) Amasya
- E) Eskişehir

36. Birinci İnönü Savaşı sonrasında düzenlenen Londra Konferansı'na katılan TBMM temsilcilerinin,

- I. Türk ulusunun yasal temsilcisinin TBMM olduğunu göstermek,
- II. Misakımillî'yi dünya kamuoyuna duyurmak
- III. İstanbul Hükûmeti ile birlikte mücadele edildiğini belirtmek

amaçlarından özellikle hangilerini hedefledikleri savunulabilir?

- A) Yalnız I
- B) I ve II
- C) I ve III
- D) II ve III
- E) I, II ve III

37. Millî Mücadele yıllarını anlatan aşağıdaki yazar ve eser eşleştirmelerinden hangisi doğru değildir?

- A) Falih Rıfki Atay – Ateşten Gömlek
- B) Kâzım Karabekir – İstiklal Harbimiz
- C) Yakup Kadri Karaosmanoğlu – Yaban
- D) Halide Edip Adivar – Türk'ün Ateşle İmtihanı
- E) Ali Fuat Cebesoy – Millî Mücadele Hatıraları

38. Lozan Barış Görüşmelerinde, Boğazlar üzerinde mutlak Türk egemenliği tezini savunan devlet aşağıdakilerden hangisidir?

- A) İtalya
- B) Fransa
- C) Sovyetler Birliği
- D) İngiltere
- E) Almanya

39. Türkiye Cumhuriyeti'nde eğitim alanında açılan,

- I. Halkevleri,
- II. Musiki Muallim Mektebi,
- III. Köy Enstitüleri

kurumlarından hangileri Atatürk Dönemi'nde faaliyete geçmiştir?

- A) Yalnız I
- B) I ve II
- C) I ve III
- D) II ve III
- E) I, II ve III

40. Gazi Mustafa Kemal, kaleme aldığı *Nutuk*'u aşağıdakilerden hangisinde okumuştur?

- A) Cumhuriyet'in onuncu yılında
- B) Birinci Türk Tarih Kongresi'nin açılışında
- C) Üçüncü Dönem TBMM'nin açılış toplantısında
- D) Cumhuriyet Halk Partisinin ikinci kurultayında
- E) Samsun'a çıkışının onuncu yıl dönümünde

41. 1982 Anayasası'nın 10. maddesinde yer alan "Herkes din, mezhep ve benzeri sebeplerle ayırım gözetilmeksizin kanun önünde eşittir." ifadesinin aşağıdaki ilkelere hangisiyle bir ilişkisi yoktur?

- A) Laiklik
- B) Haikçılık
- C) Cumhuriyetçilik
- D) Milliyetçilik
- E) Devletçilik

42. Aşağıdakilerden hangisi, Mecelle'nin ihtiyaçları karşılayamaması nedeniyle hazırlanmıştır?

- A) Soyadı Kanunu
- B) Türk Medeni Kanunu
- C) Türk Ceza Kanunu
- D) Tevhid-i Tedrisat Kanunu
- E) 1921 Anayasası

43. Aşağıdakilerden hangisi, 1926 yılında çıkarılan Maarif Teşkilatına Dair Kanun'da belirlenen orta öğretim kurumlarından biri değildir?

- A) Liseler
- B) Orta Mektepler
- C) İlk Muallim Mektepleri
- D) Köy Muallim Mektepleri
- E) Millet Mektepleri

44. Aşağıdakilerden hangisi, Atatürk Dönemi'nde kurulan partilerden biri değildir?

- A) Ahali Cumhuriyet Partisi
- B) Türkiye Komünist Partisi
- C) Liberal Demokrat Parti
- D) Serbest Cumhuriyet Partisi
- E) Türkiye Cumhuriyeti Amele ve Çiftçi Partisi

45. Aşağıdakilerden hangisi, Atatürk Dönemi'ndeki nüfus politikası uygulamalarından biri değildir?

- A) Altı veya daha fazla çocuğu olan ailelere vergi muafiyeti getirilmesi
- B) Anne ve bebek ölüm oranlarını düşürmek amacıyla nüfus komisyonu kurulması
- C) Çok çocuklu ailelere hazineinden toprak bağışlanması
- D) Ülkenin birçok yerinde doğumevleri kurulması
- E) Doğum kontrolüne yarayan ilaç ve araçların ücretsiz dağıtılması

46. Aşağıdakilerden hangisi, Başbakanın görevinin sona erme hâllerinden biri değildir?

- A) İstifa
- B) Milletvekilliği sıfatının sona ermesi
- C) Yüce Divana sevk edilmesi
- D) Cumhurbaşkanınca görevden alınması
- E) Cumhurbaşkanlığına seçilmesi

47. 1982 Anayasası'na göre, milletvekilliğinin düşmesi ile ilgili aşağıdaki ifadelerden hangisi yanlıştır?

- A) Milletvekilinin istifa etmesi durumunda, istifanın geçerli olduğunun TBMM Başkanlık Divanınca tespit edilmesi ve Genel Kurulun kararı ile milletvekilliği düşer.
- B) Milletvekilliğinin hüküm giyme hâlinde düşmesi, bu husustaki kesinleşmiş mahkeme kararının Genel Kurula bildirilmesiyle olur.
- C) Meclis çalışmalarına özürsüz veya izinsiz olarak iki ay içerisinde toplam beş birleşim günü katılmayan milletvekilinin milletvekilliği, durumun Başkanlık Divanınca tespit edilmesi ile düşer.
- D) Milletvekilliğiyle bağdaşmayan bir görev veya hizmeti sürdürmekte ısrar eden milletvekilinin milletvekilliğinin düşmesine Genel Kurul gizli oyla karar verir.
- E) Meclis tarafından milletvekilliğinin düşmesine karar verilen durumlarda, karara karşı Anayasa Mahkemesine başvurulabilir.

48. 1982 Anayasası'na göre aşağıdakilerden hangisi, Anayasa Mahkemesinin görevlerinden biri değildir?

- A) Kanunların Anayasa'ya esas ve şekil bakımından uygunluğunu denetlemek
- B) Bireysel başvuruları karara bağlamak
- C) Siyasi partilerin kapatılması davalarına bakmak
- D) Siyasi partilerin idari denetimini yapmak
- E) Yasama dokunulmazlığının kaldırılması kararlarının iptali için yapılan başvuruları karara bağlamak

49. Aşağıdakilerden hangisi, olağanüstü hâl ve sıkıyönetim ilanının hukuki sonuçlarından biri değildir?

- A) Vatandaşlar için para, mal ve çalışma yükümlülükleri getirilebilir.
- B) Temel hakların kullanılması kısmen veya tamamen durdurulabilir.
- C) Olağanüstü hâl kanun hükmünde kararname çıkarılabilir.
- D) Olağanüstü hâl rejiminde yöneticilerin yetkileri genişler.
- E) Bütün davalara askerî mahkemelerde bakılır.

50. 1982 Anayasası'na göre, Anayasa değişikliklerinin yargısal denetimi ile ilgili aşağıdaki ifadelerden hangisi doğrudur?

- A) Anayasa değişiklikleri esas bakımından Anayasa Mahkemesinin denetimine tabidir.
- B) Anayasa değişikliklerinde yargısal denetim, teklif ve oylama çoğunluğuna ve ivedilikle görüşülemeyeceği şartına uyulup uyulmadığı hususları ile sınırlıdır.
- C) Anayasa değişikliğine ilişkin itiraz başvuruları, Anayasa Mahkemesinin ilgili bölümünde karara bağlanır.
- D) Anayasa değişikliklerinin şekil bakımından iptaline karar verilebilmesi için yedi üyeye toplanan bölümde salt çoğunlukla karar verilmesi gerekir.
- E) Anayasa değişikliklerinin şekil bakımından Anayasa'ya aykırılığı iddiası ile iptal davası açmaya Ana Muhalefet Partisi de yetkilidir.

51. 1982 Anayasası'na göre aşağıdakilerden hangisi, siyasi partilerin uyacakları esaslardan biri değildir?

- A) Siyasi partiler ticari faaliyetlere girişemezler.
- B) Temelli kapatılan bir parti, bir başka ad altında kurulamaz.
- C) Siyasi partiler, yükseköğrenim öğrencilerini üye olarak kabul edemezler.
- D) Siyasi partilerin faaliyetleri, parti içi düzenlemeleri ve çalışmalarını demokrasi ilkelerine uygun olmalıdır.
- E) Siyasi partiler, yabancı devletlerden, uluslararası kuruluşlardan ve Türk uyruklığında olmayan gerçek kişilerden maddi yardım alamazlar.

52. 1982 Anayasası'na göre, bir kanun hükmünde kararnamede yürürlük tarihinin belirtilmemiş olması durumunda bu kararname ne zaman yürürlüğe girer?

- A) Resmî Gazete'de yayımlandığı gün
- B) Resmî Gazete'de yayımlandıktan 7 gün sonra
- C) Resmî Gazete'de yayımlandıktan 15 gün sonra
- D) Resmî Gazete'de yayımlandıktan 30 gün sonra
- E) Resmî Gazete'de yayımlandıktan 45 gün sonra

53. 1982 Anayasası'na göre, Türkiye Büyük Millet Meclisi ile ilgili aşağıdaki ifadelerden hangisi yanlıştır?

- A) Çalışmalarını, kendi yaptığı iç tüzük hükümlerine göre yürütür.
- B) Genel Kuruldaki bütün görüşmeler gizlidir.
- C) Meclis Başkanı, TBMM üyeleri arasından seçilir.
- D) Siyasi parti grupları en az 20 üyeden meydana gelir.
- E) Her yıl Ekim ayının ilk günü kendiliğinden toplanır.

54. I. Milletvekili seçilme yeterliliğini kaybetmesi  
II. Yasama dokunulmazlığının kaldırılması  
III. Başbakanın Yüce Divana sevk edilmesi  
IV. Milletvekilliğinden istifa etmesi

**1982 Anayasasına göre yukarıdaki durumların hangilerinde, bir bakanın bakanlık görevi sona erer?**

- A) I ve III                      B) I ve IV                      C) II ve III  
D) II ve IV                      E) III ve IV

55. **1982 Anayasası'na göre, Hâkimler ve Savcılar Yüksek Kurulu ile ilgili aşağıdaki ifadelerden hangisi yanlıştır?**

- A) Kurul, 22 asıl ve 12 yedek üyeden oluşur.  
B) Kurul, üç daire hâlinde çalışır.  
C) Kurul başkanı, dairelerin çalışmalarına katılamaz.  
D) Kurulun süresi biten üyeleri yeniden seçilebilir.  
E) Kurul üyelerinin görev süresi beş yıldır.

56. **1982 Anayasası'na göre aşağıdakilerden hangisinin, Anayasa Mahkemesi üyeliği için aday gösterme yetkisi yoktur?**

- A) Baro Başkanları  
B) Sayıştay Genel Kurulu  
C) Askerî Yüksek İdare Mahkemesi  
D) Yükseköğretim Kurulu  
E) Türkiye Büyük Millet Meclisi

57. **1982 Anayasası'na göre, seçimler ile ilgili aşağıdaki ifadelerden hangisi yanlıştır?**

- A) Seçimler, yargı organlarının genel yönetim ve denetimi altında yapılır.  
B) Seçimler, tek dereceli olarak yapılır.  
C) Seçim kanunlarında yapılan değişiklikler, yürürlüğe girdiği tarihten itibaren bir yıl içinde yapılacak seçimlerde uygulanmaz.  
D) Seçim sistemi, nispi temsil esasına dayalı olarak kanunla düzenlenir.  
E) Taksirli bir suç nedeniyle ceza infaz kurumlarında bulunanların oy kullanması mümkündür.

58. **1982 Anayasası'na göre aşağıdakilerden hangisi, yalnızca Türk vatandaşlarına tanınmış hak ve hürriyetlerden biridir?**

- A) Bilgi edinme hakkı  
B) Kamu denetçisine başvurma hakkı  
C) Siyasi faaliyette bulunma hakkı  
D) Sosyal güvenlik hakkı  
E) Toplantı ve gösteri yürüyüşü düzenleme hakkı

59. **1982 Anayasası'na göre, Bütçe Kanunu tasarısının Bütçe Komisyonunda kaç gün içerisinde kabul edilmesi gerekir?**

- A) 55                      B) 60                      C) 70                      D) 75                      E) 90



60. 1982 Anayasası'na göre, TBMM'nin toplantı ve kararları ile ilgili olarak aşağıdaki ifadelerden hangisi yanlıştır?

- A) TBMM, yapacağı seçimlerde üye tam sayısının en az üçte biri ile toplanır.
- B) Karar yeter sayısı, üye tam sayısının dörtte birinden az olmaz.
- C) Bakanlar, katılmadıkları TBMM oturumlarında kendileri yerine oy kullanmak üzere bir bakana yetki verebilirler.
- D) TBMM Başkan Vekili, yönetmiş olduğu oturumda oy kullanamaz.
- E) Bütçe Kanunu tasarısının görüşülmesi ve kabul edilmesi için özel toplantı ve karar yeter sayısına ihtiyaç yoktur.

1. Bu testte 30 soru vardır.

2. Cevaplarınızı, cevap kâğıdının Alan Bilgisi Testi için ayrılan kısmına işaretleyiniz.

1. Dönem sonu bilançosunun düzenlenmesine temel olan muhasebe belgesi aşağıdakilerden hangisidir?

- A) Günlük defter
- B) Genel geçici mizan
- C) Kasa tahsil fişi
- D) Kesin mizan
- E) Defterikebir

2. Alacak hesaplarıyla ilgili aşağıdaki ifadelerden hangisi yanlıştır?

- A) Şüpheli alacak hâline gelen bir ticari alacağın tutarı kadar değil, risk tutarı kadar karşılık ayrılır.
- B) Alacak senetlerine yıl sonu itibarıyla reeskont hesaplanırken senedin alındığı tarih ile bilanço tarihi arasında geçen süre esas alınır.
- C) Bir alıcıdan borcuna karşılık aynı tutarda senet alınması Ticari Alacaklar toplamını etkilemez.
- D) Alıcıların, borçlarına karşılık işletme lehine düzenledikleri veya lehtar olup işletmeye ciro ettikleri bonolar Alacak Senetleri hesabına kaydedilir.
- E) Bir alacak senedinin tahsil edilmesi Varlıklar toplamını değiştirmez.

3.

_____ / _____	XX
GELİR TAHAKKUKLARI	
FAİZ GELİRLERİ	XX
_____ / _____	

Yukarıda verilen günlük defter kaydı, aşağıdaki işlemlerden hangisiyle ilgili olarak yapılır?

- A) Faiz gelirinin tahsil edilmesi
- B) Banka kredisine faiz tahakkuk ettirilmesi
- C) Tahsili izleyen dönemlerde yapılacak olan faiz gelirinin tahakkuku
- D) Hisse senedine faiz tahakkuk ettirilmesi
- E) Faiz gelirlerinin Gelir Tahakkukları hesabına aktarılması

4. Aşağıdaki işlemlerden hangisine ilişkin muhasebe kaydında bir gider hesabı kullanılmaz?

- A) Karşılık ayırma
- B) Yedek ayırma
- C) Amortisman ayırma
- D) Borç senedi reeskont iptali
- E) Alacak senedi reeskont ayırma

5. Peşin ödenmiş giderlerin aktifleştirilmesinde rol oynayan muhasebe temel kavramı aşağıdakilerden hangisidir?

- A) Dönemsellik
- B) İhtiyatlılık
- C) Tutarlılık
- D) Maliyet esası
- E) Parayla ölçülme

6. I. Anlaşılabilir olma  
II. Onaylanmış olma  
III. Zamanlı olma  
IV. Karşılaştırılabilir olma  
V. Denetlenmiş olma

Yukarıdakilerden hangileri, Muhasebe Sistemi Uygulama Genel Tebliği'ne göre finansal tabloların taşınması gereken özellikler arasında yer almaz?

- A) I ve III
- B) I ve IV
- C) II ve V
- D) III ve IV
- E) III ve V

7. İşletme, elinde bulunan tahvillere ilişkin vadesi dolan kuponları tahsil edilmek üzere bankaya göndermiştir.

Bu işlemle ilgili olarak aşağıdakilerden hangisinin kullanımı doğrudur?

- A) Bankalar hesabı borçlu – Faiz Gelirleri hesabı alacaklı
- B) Bankalar hesabı borçlu – Diğer Hazır Değerler hesabı alacaklı
- C) Diğer Hazır Değerler hesabı borçlu – İştiraklerden Temettü Gelirleri hesabı alacaklı
- D) Kamu Kesimi Tahvil, Senet ve Bonoları hesabı borçlu – Diğer Hazır Değerler hesabı alacaklı
- E) Diğer Hazır Değerler hesabı borçlu – Faiz Gelirleri hesabı alacaklı

8. İşletme, % 18 KDV hariç 50.000 TL tutarında ticari mal satın almış ve bedeli karşılığında daha önce bir alıcısından almış olduğu 35.000 TL'lik çeki ciro etmiştir. Kalanı için de bir çek düzenleyip vermiştir.

Bu işlemle ilgili olarak aşağıdaki kayıtlardan hangisi yapılmalıdır?

A) _____ / _____		
TİCARİ MALLAR	50.000	
İNDİRİLECEK KDV	9.000	
BANKALAR		59.000
_____ / _____		

B) _____ / _____		
TİCARİ MALLAR	50.000	
İNDİRİLECEK KDV	9.000	
ALINAN ÇEKLER		35.000
VERİLEN ÇEKLER		
VE ÖDEME EMİRLERİ		24.000
_____ / _____		

C) _____ / _____		
TİCARİ MALLAR	50.000	
İNDİRİLECEK KDV	9.000	
ALINAN ÇEKLER		59.000
_____ / _____		

D) _____ / _____		
TİCARİ MALLAR	50.000	
İNDİRİLECEK KDV	9.000	
VERİLEN ÇEKLER		
VE ÖDEME EMİRLERİ		59.000
_____ / _____		

E) _____ / _____		
TİCARİ MALLAR	50.000	
İNDİRİLECEK KDV	9.000	
ALICILAR		35.000
SATICILAR		24.000
_____ / _____		

9. İşletmenin elinde, alış değeri 120.800 TL olan 80.000 adet hisse senedi bulunmaktadır.

**Bilanço günü itibarıyla hisse senedi birim fiyatı 1,22 TL olduğuna göre hangi hesaba, ne şekilde kayıt yapılmalıdır?**

- A) Menkul Kıymetler Değer Düşüklüğü Karşılığı hesabı alacaklı 23.200 TL  
 B) Menkul Kıymetler Satış Zararları hesabı alacaklı 23.200 TL  
 C) Menkul Kıymetler Satış Zararları hesabı borçlu 23.200 TL  
 D) Hisse Senetleri hesabı alacaklı 23.200 TL  
 E) Karşılık Giderleri hesabı borçlu 1.200 TL

10. Aralıklı envanter yöntemini uygulayan bir işletmede mal alım satım işlemlerine ilişkin tutarlar aşağıdaki gibidir:

Dönem başı mal mevcudu	32.000 TL
Alıştan İadeler	3.000 TL
Satış İskontoları	1.000 TL
Dönem sonu mal mevcudu	23.000 TL
Yurtiçi Satışlar	38.000 TL
Alış İskontoları	1.000 TL
Alışlar	24.000 TL
Satıştan İadeler	2.000 TL

**Buna göre, işletmenin sattığı malların maliyeti kaç TL'dir?**

- A) 29.000      B) 30.000      C) 32.000  
 D) 33.000      E) 38.000

11. İşletme, 6.400 € tutarındaki alacağını Alıcılar hesabında 12.992 TL olarak izlemektedir.

**Dönem sonu kuru 1 € = 2,30 TL olduğuna göre, dönem sonunda yapılacak kayıtla ilgili olarak aşağıdaki ifadelerden hangisi doğrudur?**

- A) Alıcılar hesabı 14.720 TL borçlandırılmalıdır.  
 B) Alıcılar hesabı 12.992 TL borçlandırılmalıdır.  
 C) Gelir Tahakkukları hesabı 1.728 TL borçlandırılmalıdır.  
 D) Kambiyo Zararları hesabı 1.728 TL borçlandırılmalıdır.  
 E) Kambiyo Kârları hesabı 1.728 TL alacaklandırılmalıdır.

12. **Tekdüzen Hesap Planına göre, aşağıdaki hesap grubu - hesap adı eşleştirmelerinden hangisi yanlıştır?**

<u>Hesap grubu</u>	<u>Hesap adı</u>
A) Diğer Alacaklar	Personelden Alacaklar
B) Ticari Alacaklar	Verilen Depozito ve Teminatlar
C) Diğer Kısa Vadeli Yabancı Kaynaklar	Hesaplanan KDV
D) Özel Tükenmeye Tabi Varlıklar	Özel Maliyetler
E) Ödenecek Vergi ve Diğer Yükümlülükler	Ödenecek Vergi ve Fonlar

13. İşletmenin 2010 yılı başında 620.000 TL olan öz sermayesi yılın sonunda 680.000 TL olarak belirlenmiştir. İşletme sahibi 2010 yılı içinde 42.000 TL değerinde bir taşıtı sermayeye eklenmesi amacıyla işletmeye vermiş ve işletmeden 11.000 TL çekmiştir.

**Karşılaştırma yöntemine göre, işletmenin 2010 yılı kâr veya zararı kaç TL'dir?**

- A) 31.000 TL zarar
- B) 7.000 TL zarar
- C) 60.000 TL kâr
- D) 53.000 TL kâr
- E) 29.000 TL kâr

14. Bir ücret bordrosunun kaydında aşağıdaki hesaplardan hangisi kullanılmaz?

- A) Ödenecek Vergi ve Fonlar
- B) Personele Borçlar
- C) Personelden Alacaklar
- D) Genel Yönetim Giderleri
- E) Genel Üretim Giderleri

15. İşletmenin, aldığı senet karşılığı kredi hesabıyla ilgili olarak teminata verdiği 15.000 TL'lik bir senet, vadesinde banka tarafından tahsil edilerek kredi hesabına kaydedilmiştir.

**Bu işlemle ilgili olarak**

- I. Banka Kredileri hesabı borçlu,
- II. Banka Kredileri hesabı alacaklı,
- III. Alacak Senetleri hesabı borçlu,
- IV. Alacak Senetleri hesabı alacaklı,
- V. Bankalar hesabı borçlu

**kayıtlarından hangilerinin kullanımı doğrudur?**

- A) I ve IV
- B) I ve V
- C) II ve IV
- D) II ve V
- E) III ve IV

16. Cumhuriyet Tarihi boyunca dış ticaret fazlasının kaydedildiği son yıl aşağıdakilerden hangisidir?

- A) 1923
- B) 1930
- C) 1946
- D) 1978
- E) 1989

17. Aşağıdaki ifadelerden hangisi, 1930-1939 dönemi için yanlıştır?

- A) Dış ticaretin bir kısmı kliring anlaşmaları ile yürütülmüştür.
- B) Bütçe her yıl açık vermiştir.
- C) Dış ticaret, 1938 yılı hariç her yıl fazla vermiştir.
- D) İthal edilen malları ikame etmeye yönelik sanayileşme politikası uygulanmıştır.
- E) Sanayi işletmeleri işçi bulmakta sürekli güçlük çekmiştir.

18. Birinci Beş Yıllık Kalkınma Planı ile ilgili aşağıdaki ifadelerden hangisi yanlıştır?

- A) Yıllık yüzde onluk bir büyüme hedeflenmiştir.
- B) Nitelikli iş gücü yetiştirilmesine önem verilmiştir.
- C) İstihdam sorununun çözülmesi hedeflenmiştir.
- D) Dış ödeme dengesine ulaşılması hedeflenmiştir.
- E) 1963-1967 dönemini kapsamaktadır.

19. 1961-1976 İthal İkameci Planlı Kalkınma Dönemi'nde aşağıdakilerden hangisi gerçekleşmemiştir?

- A) İşçilerin eline geçen çıplak ücret ile işverenlerin ödediği brüt ücret arasındaki fark azalmıştır.
- B) Grev hakkını içeren toplu pazarlık sistemi, işçilerin reel ücretlerinde artış sağlamıştır.
- C) Tarımsal ürünlerin fiyatlarının oluşumunda devletin destekleme politikasının etki alanı genişlemiştir.
- D) KİT'lerde ücret taleplerine karşı gevşek politika uygulanmıştır.
- E) Sosyal güvenlik kapsamındakilerin genel nüfus içinde oranı artmıştır.

20. I. İç talebin daraltılması  
II. Fiyat kontrollerinin kaldırılması  
III. Devalüasyon politikası

Yukarıdakilerden hangileri, 24 Ocak kararları ile dönemin iktisat politikalarının temel unsurlarından olmuştur?

- A) Yalnız I
- B) Yalnız III
- C) I ve II
- D) II ve III
- E) I, II ve III

21. I. Ticari bankaların, uzun vadeli devlet iç borçlanma senetleri tutmak istememesi  
II. Ticari bankaların, Hazine bono ihalelerinde birbirlerine karşı rekabet etmesi  
III. Ticari bankaların, döviz açık pozisyonlarının kur riskini karşılamak için yüksek faiz talep etmesi

Yukarıdakilerden hangileri, Türkiye'de 1999'da Hazinesinin iç borçları döndürmesini zorlaştırmıştır?

- A) Yalnız I
- B) I ve II
- C) I ve III
- D) II ve III
- E) I, II ve III

22. Aşağıdakilerden hangisi, 2000 yılında uygulanan İstikrar Programı'nda öngörülen tedbirlerden biri değildir?

- A) Para tabanındaki değişmeyi, Merkez Bankasının net dış varlıklarındaki değişime ile sağlamak
- B) Kamu borcunu özelleştirme gelirleriyle ödemek
- C) Ücret ve maaşları hedeflenen enflasyon oranında artırmak
- D) Faiz oranlarının belirlenmesini piyasaya bırakmak
- E) Döviz kurunun belirlenmesini piyasaya bırakmak

23. Aşağıdakilerden hangisi, Türkiye'de 2001 döviz buhranına yol açan etkenlerden biri değildir?

- A) 2000 İstikrar Programı'na başlarken TL'nin devalüe edilmemesi
- B) 2000 İstikrar Programı'nda ithalatı kısıtlayıcı tedbir alınmaması
- C) 2000 İstikrar Programı'nda maaş ve ücretlerin gerçekleşen enflasyon oranında artırılması
- D) 2000 İstikrar Programı'nda kısa vadeli sermaye girişlerine karşı tedbir alınmaması
- E) 2000 İstikrar Programı'na başlarken bankacılık sektörünün, faiz ve kur artışlarına karşı kırılganlığının giderilmemesi

24. Türkiye'de, 2002 yılı sonunda brüt dış borç stokunun borçlulara göre dağılımının büyükten küçüğe doğru sıralaması aşağıdakilerden hangisinde verilmiştir?

- A) Kamu, TCMB, Özel Sektör
- B) Özel Sektör, Kamu, TCMB
- C) TCMB, Özel Sektör, Kamu
- D) Özel Sektör, TCMB, Kamu
- E) Kamu, Özel Sektör, TCMB

25. Türkiye'de, 2002-2005 döneminde uygulanan para politikası rejimine ne ad verilmektedir?

- A) Açık enflasyon hedeflemesi
- B) Örtük enflasyon hedeflemesi
- C) Nominal GDP hedeflemesi
- D) Döviz kuru hedeflemesi
- E) Artış hızı sabit döviz kuru hedeflemesi

26. I. Tarım  
II. Madencilik  
III. İmalat sanayisi  
IV. Hizmetler

Türkiye'de, 2000-2010 döneminde istihdamın yukarıdaki sektörlere dağılımı aşağıdakilerden hangisinde büyükten küçüğe doğru sıralanmıştır?

- A) I, IV, II, III
- B) I, III, IV, II
- C) IV, III, I, II
- D) IV, I, III, II
- E) IV, I, II, III

27. I. Türkiye, Aralık 2000'de IMF tarafından sağlanan Ek Rezerv Kolaylığı'ndan yararlanmıştır.  
II. Türkiye ile IMF arasında ilk Stand-by Anlaşması 1970'de imzalanmıştır.  
III. Küresel kriz nedeni ile 2009 yılında Türkiye, IMF ile Stand-by Anlaşması imzalamıştır.

Türkiye-IMF ilişkileri ile ilgili yukarıdaki bilgilerden hangileri yanlıştır?

- A) Yalnız I
- B) I ve II
- C) I ve III
- D) II ve III
- E) I, II ve III

28. Türkiye'nin ithalatı, yatırım malları, ara malları ve tüketim malları şeklinde tasnif edildiğinde 2000-2010 yılları arasında, bu mal gruplarının ithalat içindeki paylarının büyükten küçüğe sıralaması aşağıdakilerden hangisinde doğru olarak verilmiştir?

- A) Yatırım malları, ara malları, tüketim malları
- B) Yatırım malları, tüketim malları, ara malları
- C) Ara malları, yatırım malları, tüketim malları
- D) Ara malları, tüketim malları, yatırım malları
- E) Tüketim malları, ara malları, yatırım malları

29.

2010 Yılı Ödemeler Dengesi (Milyar dolar)

Cari İşlemler Hesabı	-47
Sermaye ve Finans Hesapları	59
Rezerv Varlıklar	-15
Net Hata ve Noksan	?

**Yukarıdaki tabloda verilen Türkiye'nin 2010 yılı ödemeler dengesi bilgilerine göre, Net Hata ve Noksan kaç milyar dolardır? (Rakamlar yaklaşık değerlerdir.)**

- A) -12    B) -3    C) 3    D) 12    E) 15

30. P80/P20 göstergesi, fertler eşdeğer hane halkı kullanılabilir gelirlerine göre küçükten büyüğe doğru sıralanarak 5 gruba ayrıldığında, son yüzde yirmilik grubun (geliri en yüksek grup) toplam gelirden aldığı payın ilk yüzde yirmilik grubun (gelirin en düşük olduğu grup) toplam gelirden aldığı paya oranını ifade etmektedir.

**Buna göre, Türkiye'de P80/P20 göstergesi 2010 ve 2011 yılları için kaçtır?**

- A) 4    B) 6    C) 8    D) 10    E) 12



1. Bu testte 50 soru vardır.

2. Cevaplarınızı, cevap kâğıdının Fransızca Testi için ayrılan kısmına işaretleyiniz.

1. - 11. sorularda, cümlede boş bırakılan yerlere uygun düşen sözcük ya da ifadeyi bulunuz.

1. La science n'a jamais cessé de réinventer ses méthodes pour faire de nouvelles ----.
- A) traditions B) découvertes  
C) phases D) positions  
E) conditions
2. En seulement un demi-siècle, les Français sont devenus de vrais amateurs de riz, appréciant surtout les origines exotiques et les saveurs ----.
- A) ignorantes B) silencieuses  
C) malheureuses D) coupables  
E) délicates
3. Grâce ---- à la sismologie, on a aujourd'hui accès aux constituants de notre planète et à leur dynamique.
- A) notamment B) graduellement  
C) positivement D) aléatoirement  
E) sévèrement
4. Étant donné qu'au XIX<sup>e</sup> siècle en France, les usines ---- loin des centres-villes, les ouvriers migrent en banlieue et lui donnent son identité populaire.
- A) se montrent B) contiennent  
C) retrouvent D) s'installent  
E) arrêtent
5. Depuis plus de 150 ans, explorateurs et chercheurs s'organisent ---- le monde pour essayer de mieux comprendre la civilisation égyptienne.
- A) depuis B) par C) à travers  
D) sous E) pour
6. La clef pour lutter contre l'obésité, c'est d'informer les gens sur cette maladie et de leur donner les moyens de ---- prévenir.
- A) la B) le C) lui D) les E) leur

7. ---- l'être humain partage de nombreuses caractéristiques avec les autres êtres vivants, il se singularise sur d'innombrables points.

- A) Pour que                      B) Bien que  
C) En attendant que            D) Jusqu'à ce que  
E) Aussitôt que

8. Les plus petits objets célestes deviennent bien visibles ---- on les observe avec un instrument astronomique.

- A) quoiqu'                      B) de sorte qu'  
C) de peur qu'                D) quand  
E) pour qu'

9. Le barbecue est né le jour ---- l'homme a compris que la viande traitée par la flamme est plus savoureuse.

- A) que                      B) qui                      C) où  
D) dont                      E) auquel

10. **Sotchi, la ville russe bordant la mer Noire, ---- les Jeux olympiques d'hiver de 2014 malgré un climat subtropical et une totale absence d'infrastructure.**

- A) a organisé                      B) avait organisé  
C) organisait                      D) organisera  
E) aurait organisé

11. **En Europe à l'horizon 2020, 15% des surfaces agricoles ---- consacrées aux agrocarburants.**

- A) ont été                      B) sont  
C) étaient                      D) avaient été  
E) seront

**12. - 16. sorularda, aşağıdaki parçada numaralanmış yerlere uygun düşen sözcük ya da ifadeyi bulunuz.**

À la fin du Moyen Âge, les voyageurs (12)---- partaient pour Rome emportant avec eux un petit livre intitulé *Mirabilia Romae*, "les Merveilles de Rome". (13)---- cet ouvrage, on (14)---- aussi bien un guide de la ville et de ses rues qu'(15)---- des principaux monuments et de diverses curiosités de la cité comme des ponts, des statues, des cirques ou des prisons... Ces œuvres très (16)---- étaient traitées sur le même plan, tant on estimait qu'elles étaient toutes constitutives de l'identité de la ville.

12.

- A) où B) qui  
C) dont D) auxquels  
E) que

13.

- A) Pour B) Par C) Chez D) Sous E) Dans

14.

- A) trouvait B) serait  
C) cherchait D) créait  
E) faisait

15.

- A) une richesse B) une voie  
C) une description D) une préparation  
E) un contrat

16.

- A) démodées B) influençables  
C) éphémères D) diverses  
E) agrandies

17. - 24. sorularda, verilen cümleyi uygun şekilde tamamlayan ifadeyi bulunuz.

17. ---- et génère des besoins sans cesse accrus.

- A) La généralisation de l'eau courante progresse avec l'évolution du niveau de vie
- B) Des campagnes incitent les gens à économiser les sources d'eau
- C) L'accès à l'eau pour vivre est un besoin humain de base
- D) Près de 1,5 milliard de personnes dans le monde n'ont pas accès à l'eau courante
- E) De nos jours, l'idée que l'eau n'est plus une ressource infinie s'installe

18. ----, ce changement est entièrement dû à l'action des mouvements féministes.

- A) Alors que le statut des femmes dans la société n'a guère été remis en question avant le XX<sup>e</sup> siècle
- B) S'il est aujourd'hui généralement admis que les hommes et les femmes doivent jouir de droits égaux
- C) Pourqu'en 1944 les Françaises obtiennent le droit de vote
- D) Même si les Françaises pouvaient, à partir de 1965, exercer une activité professionnelle sans l'autorisation de leur mari
- E) Tandis que durant les deux guerres mondiales, les femmes ont remplacé les hommes mobilisés dans les usines et les services publics

19. ----, aujourd'hui, l'obésité infantile reste encore importante en France.

- A) De même que les taux d'obésité infantile rattrapent ceux des États-Unis
- B) Alors que l'obésité résulte de l'interaction entre le mode de vie et la génétique
- C) Même si les chiffres se sont stabilisés depuis les années 2000
- D) De manière que le risque d'obésité est multiplié par quatre chez les enfants dont un parent est obèse
- E) Lorsqu'un enfant en surpoids doit se mettre au régime pour des raisons de santé

20. La Terre abrite plus d'un million d'espèces animales différentes, ----.

- A) or à l'intérieur de chaque cellule une membrane nucléaire sépare le noyau du cytoplasme
- B) par conséquent, cela veut dire que leurs corps est constitué de plus d'une cellule
- C) cependant, les plus primitifs des animaux aquatiques ne comportent que quelques douzaines de cellules
- D) et chaque jour on en découvre de nouvelles dont on ignorait jusque-là l'existence
- E) donc, chez les mammifères les plus évolués, les cellules se comptent par millions

**21. Aujourd'hui, les appareils électriques sont omniprésents chez nous et par simple effet de mode ou pour suivre les avancées technologiques, ----.**

- A) un appareil électrique ne doit pas être mis à la poubelle
- B) les appareils collectés sont acheminés vers des centres de recyclage
- C) certains appareils contiennent des substances potentiellement dangereuses pour l'environnement
- D) on ne préserve pas nos ressources naturelles qui demandent toutefois un effort collectif
- E) on a tendance à remplacer ces appareils par de nouveaux modèles toujours plus performants

**22. Dans certaines sociétés traditionnelles, une peau malade est synonyme de punition ou de faute, donc de mise à l'écart, ----.**

- A) alors qu'une peau saine symbolise une belle âme
- B) bien que la peau soit un organe d'enveloppe, de protection mais surtout de communication
- C) si l'on considère qu'une peau sans tatouage est sans message
- D) car la peau se marque de tous les instants de notre vie: rides d'expression, du chagrin...
- E) pour que l'apparence physique ne soit pas primordiale

**23. Les enfants peuvent aussi avoir la migraine, ----.**

- A) car les enfants ne subissent pas de terribles maux de tête
- B) aussitôt qu'ils développent des symptômes différents selon les sexes
- C) même si cette affection a longtemps été considérée comme propre aux adultes
- D) parce que son traitement précoce chez eux permet d'éviter le développement de cette pathologie
- E) sauf si, à la préadolescence, la maladie évolue vers les symptômes habituels que présentent les adultes

**24. ----, le Japon a vu naître une civilisation originale.**

- A) Si, après la Deuxième Guerre mondiale, le Japon a conservé son empereur par tradition
- B) Même s'il est géographiquement proche de la Chine, et si les relations entre les deux régions ont été fréquentes
- C) Bien que le Japon ne reprenne que progressivement un rôle politique à la hauteur de sa place dans les échanges mondiaux
- D) En attendant que l'interdiction soit faite aux Japonais de se rendre à l'étranger à partir du XVII<sup>e</sup> siècle
- E) Du fait que le Japon a attendu les années 50 pour être totalement indépendant

**25. - 27. soruları aşağıdaki parçaya göre cevaplayınız.**

Les perspectives sur le front de l'emploi joueront en défaveur des candidats aux élections présidentielles de 2012, aux États-Unis, au Mexique, en Corée du Sud ou encore en Islande. "Malgré les efforts acharnés des gouvernements, la crise de l'emploi ne connaît pas de repos", indique l'Organisation internationale du travail (OIT) dans son rapport annuel consacré aux tendances de l'emploi. Après trois années de crise, le chômage accumulé concerne 200 millions de personnes à l'échelle planétaire. Au total, l'économie mondiale devra créer 600 millions d'emplois sur dix ans pour pallier ces destructions, en même temps que répondre à l'accroissement annuel de la main-d'œuvre. L'organisation, qui regroupe les représentants des gouvernements, des employeurs et des salariés, est pessimiste. "En 2012, les capacités de l'économie mondiale à créer de nouveaux emplois ont nettement baissé", avancent les auteurs du rapport, et "la croissance mondiale va inéluctablement s'affaiblir", explique l'OIT.

**25. L'affaiblissement de la création de nouveaux emplois ----.**

- A) est dû en grande partie aux programmes des candidats aux élections présidentielles de 2012
- B) empêchera les gouvernements de considérer les nouvelles tendances de l'emploi
- C) incite les candidats aux élections présidentielles de 2012 à l'inclure dans leurs programmes
- D) n'est pas mentionné dans le rapport annuel de l'Organisation internationale du travail
- E) est un facteur défavorable pour les campagnes électorales en 2012

**26. D'après le rapport annuel de l'Organisation internationale du travail, le marché du travail ----.**

- A) est en voie de développement avec la création de 600 millions d'emplois
- B) sera dans le programme des candidats à l'élection présidentielle de 2012
- C) constituera un des sujets à traiter par les candidats à l'élection présidentielle de 2012
- D) s'est rétréci à cause de la crise économique mondiale
- E) se trouve à l'origine de la crise économique mondiale

**27. D'après le rapport de l'Organisation internationale du travail, en 2012, le chômage ----.**

- A) ne baissera pas
- B) s'effacera
- C) n'augmentera pas
- D) diminuera
- E) se stabilisera

**28. - 30. soruları aşağıdaki parçaya göre cevaplayınız.**

Si on vit en moyenne 35 années de plus qu'il y a un siècle, c'est grâce à la médecine moderne. Les clés de ce succès: les progrès en matière d'hygiène, la création de nombreux vaccins et antibiotiques... Dans les pays riches, la médecine a éliminé des fléaux comme la peste ou le choléra, stabilisé des épidémies, comme celle du sida... Et depuis le début du siècle, elle progresse à pas de géants pour améliorer la vie des handicapés. Le domaine le plus spectaculaire est celui de la "médecine bionique", qui consiste à munir le corps de divers implants et prothèses électroniques. Avec des résultats spectaculaires: des aveugles retrouvent en partie la vue, des sourds réentendent... Les prothèses classiques font des progrès si fulgurants que certains handicapés sont capables d'exploits impensables il y a dix ans. Ainsi, le sprinter Oscar Pistorius, doté de prothèses en fibres de carbone, qui a concouru aux Jeux olympiques de 2012 contre des athlètes qui ne sont pas handicapés!

**28. Les progrès de la médecine moderne ----.**

- A) ne sont toujours pas accessibles à tous dans les pays riches
- B) ne concerne qu'un nombre limité de domaines
- C) a permis à l'Homme d'accroître considérablement son espérance de vie
- D) se sont ralentis depuis une dizaine d'années
- E) sont aujourd'hui remis en question par certaines médecines alternatives

**29. Avec la "médecine bionique", ----.**

- A) les médecins ne sont pas sûrs des effets secondaires
- B) les chercheurs pensent qu'un jour tous les aveugles recouvreront la vue
- C) les chercheurs pensent avoir découvert le remède miracle
- D) les personnes victimes d'un handicap voient leur qualité de vie s'améliorer
- E) seuls les jeunes handicapés pourront en bénéficier

**30. L'exemple du sportif Oscar Pistorius illustre ----.**

- A) la difficulté pour les handicapés de développer une vie sociale normale
- B) les difficultés des handicapés à s'insérer dans la société
- C) l'importance d'un soutien psychologique pour les victimes de handicap
- D) l'amélioration de l'accès de tous les handicapés aux nouvelles prothèses très sophistiquées
- E) les progrès extraordinaires accomplis dans les prothèses

**31. - 33. soruları aşağıdaki parçaya göre cevaplayınız.**

Dans le langage commun, on confond trop souvent la déprime avec la dépression. En réalité, la déprime est un mal passager, de quelques heures à quelques jours, souvent en réaction à un évènement de vie (rupture, décès...). La dépression, véritable maladie mentale, entraîne une modification des comportements. Elle peut s'installer de façon insidieuse, sans qu'un évènement ou un choc psychologique en soit la cause. On considère qu'une personne souffre de dépression majeure si elle cumule au moins plusieurs critères parmi les suivants: tristesse inhabituelle, perte d'intérêt pour la plupart des activités, même celles qui apportaient du plaisir auparavant, perte ou gain de poids significatif, fatigue intense, idées suicidaires, troubles du sommeil... Si ces symptômes durent depuis au moins 15 jours, presque chaque jour, presque toute la journée alors il est conseillé de consulter un médecin.

**31. Contrairement à la déprime, la dépression ----.**

- A) se soigne à l'aide d'une simple thérapie auprès d'un psychologue
- B) peut survenir alors qu'aucune cause précise ne l'explique
- C) ne touche que certaines catégories de la population
- D) est le plus souvent de courte durée
- E) est bien mieux diagnostiquée par les spécialistes

**32. On peut dire qu'une personne souffre de dépression si ----.**

- A) les psychiatres ne sont pas capables de trouver un traitement à base de médicaments
- B) son entourage n'est plus du tout capable de reconnaître son comportement
- C) elle présente plusieurs symptômes tels qu'un manque de sommeil, de la fatigue ou une envie de mourir
- D) ses actions deviennent extrêmement dangereuses pour ses proches
- E) elle est perturbée pendant plusieurs jours par un évènement traumatisant

**33. Dans les cas de possible dépression, la décision d'aller voir un médecin dépend ----.**

- A) de la durée des symptômes liés à la dépression
- B) surtout du rôle joué par la famille
- C) principalement de l'existence d'antécédents dépressifs
- D) de l'acceptation par la personne de sa maladie
- E) avant tout de l'existence d'un danger immédiat pour l'entourage



**34. - 36. sorularda, karşılıklı konuşmanın boş bırakılan kısmını tamamlayabilecek ifadeyi bulunuz.**

34. Professeur de piano:

- **En Juin prochain, un grand concours national va être organisé. J'aimerais que tu y participes.**

Élève:

- ----

Professeur de piano:

- **Je suis sûr que tu as le niveau, sinon je ne te proposerais pas de t'y préparer! Par contre, je ne te cache pas que tu vas devoir travailler dur.**

Élève:

- **Le travail ne me fait pas peur et si vous êtes sûre de mon niveau, alors je veux bien tenter ma chance.**

- A) Je dois préparer mes examens d'entrée à l'université donc je ne pourrais pas suffisamment m'y consacrer.
- B) Je déteste ce type de concours car cela me stresse de trop. Je fais du piano juste pour me faire plaisir.
- C) Oui, pourquoi pas. Je me suis toujours demandé comment se déroulait ce type de compétition.
- D) Ce n'est pas possible, je n'ai pas le niveau suffisant pour ce type de concours prestigieux.
- E) C'est une bonne idée et j'aimerais vraiment pouvoir comparer mon niveau avec celui d'autres jeunes pianistes.

35. Cem:

- ----

Melih:

- **Il faut croire que nous n'avons pas su développer une culture sportive suffisante. À part pour le football et le basketball, nous ne nous illustrons pas beaucoup sur la scène sportive internationale!**

Cem:

- **Tu as raison, d'ailleurs nous manquons cruellement d'infrastructures sportives modernes et surtout disponibles au plus grand nombre pour un prix correct.**

Melih:

- **Absolument, je suis toujours en colère lorsque je vois le prix que demandent les clubs de sports lorsque je dois y inscrire mes enfants, une vraie fortune.**

- A) As-tu regardé les Jeux olympiques de Londres? J'ai trouvé la performance de nos deux coureuses de 1500 m absolument magnifique!
- B) Tout le monde au bureau n'arrêtait pas de parler des Jeux olympiques en juillet, je n'en pouvais plus à la fin.
- C) Pour moi, l'important est de faire du sport et non de le regarder. Du coup, je ne me suis que très peu intéressé aux Jeux olympiques de Londres.
- D) Au lieu de te planter derrière ta télé pendant des heures à regarder toutes ces compétitions sportives, tu ferais bien de te mettre un peu au sport!
- E) Je trouve cela très étonnant qu'une nation aussi peuplée et jeune que la nôtre n'est pas récoltée plus de médailles aux Jeux olympiques de Londres.

36. Ekrem:

- Depuis quelques semaines, tu sembles fatigué et distrait. Tu n'as pas la tête à ton travail et j'ai peur que tu multiplies les erreurs. Fais attention!

Mete:

- C'est vrai, je l'avoue mais j'ai des soucis à la maison et puis nous avons quelques inquiétudes au niveau financier.

Ekrem:

- Pourquoi ne m'en as-tu pas parlé plus tôt? Tu peux compter sur ma discrétion, tu le sais bien. Peut-être que je pourrais te venir en aide.

Mete:

– ----

- A) Parler au patron, mais tu n'y penses pas! Il ne comprendra jamais et je risque de perdre mon travail.
- B) J'ai décidé de partir à la retraite, et comme tu l'as remarqué je suis très heureux de cette décision.
- C) Je sais que je peux compter sur toi. Je crois qu'effectivement cela me ferait au moins du bien d'en parler à quelqu'un.
- D) Tu as tort. Je ne suis pas aussi fatigué que cela. C'est juste une impression, en tous les cas le patron ne m'a rien dit.
- E) Je vais changer de division bientôt, je ne te l'avais pas dit. J'en suis ravi en plus je vais avoir une promotion.

37. - 40. sorularda, boş bırakılan yere, parçada anlam bütünlüğünü sağlamak için getirilebilecek cümleyi bulunuz.

37. Le développement du commerce électronique est la dernière grande révolution dans le domaine de la distribution, qui pourrait avoir un impact aussi important que celui de l'invention du supermarché. La part qu'il occupe déjà dans certains domaines ne peut que se développer. ---- Son développement extrêmement rapide oblige la distribution traditionnelle à revoir sa fonction et à se trouver d'autres arguments. La simple fonction de vendre a ses limites face aux atouts du commerce en ligne.

- A) La publicité sur Internet énerve de plus en plus les internautes.
- B) Les escroqueries sur Internet sont très nombreuses et il est facile d'en être victime.
- C) Cela n'explique que partiellement l'essor du commerce en ligne.
- D) Par exemple, deux billets d'avions sur trois sont déjà vendus par Internet aux États-Unis et un sur quatre en Europe.
- E) Le problème de distribution est crucial, car c'est là, que les entreprises perdent de l'argent.

38. Les Papillomavirus Humains sont des virus très répandus, en particulier chez les femmes jeunes entre 15 et 24 ans. ---- La plupart du temps, ces virus sont éliminés spontanément par l'organisme. Mais certains peuvent persister dans les muqueuses génitales et provoquer des lésions du col de l'utérus qui peuvent s'avérer être cancéreuses.

- A) Il guidera le traitement, qui repose principalement sur la chirurgie et la radiothérapie.
- B) Ils se transmettent lors des relations sexuelles et des contacts intimes.
- C) C'est le 3<sup>ème</sup> cancer le plus fréquent chez la femme de 15 à 44 ans.
- D) Dans certains cas, ce traitement peut être complété par une chimiothérapie.
- E) Plus la lésion est détectée tôt, meilleure sera la prise en charge.

39. De 7 milliards en 2011, la population mondiale devrait atteindre 9,3 milliards en 2050 et 10,1 milliards en 2100, selon les dernières projections des Nations unies. ---- Évidemment, ces chiffres sont à prendre avec précaution: une très faible variation du taux de fécondité et de l'espérance de vie peut avoir un impact majeur sur le volume de la population mondiale à long terme. Toutefois, cette hausse prévue de 2,3 milliards d'humains confirme l'ampleur des défis écologiques auxquels nous sommes confrontés.

- A) C'est la première fois que les démographes de l'ONU se risquent à faire des estimations à un horizon si éloigné.
- B) Les cours des matières premières agricoles augmentant, les pays pauvres se retrouvent dans des situations difficiles.
- C) La pression démographique reste forte dans les pays en développement malgré un ralentissement de la natalité.
- D) Les défis écologiques pour nourrir une population mondiale toujours grandissante inquiètent les gouvernements.
- E) Enfin, les pays pauvres ne pourront relever seuls les défis écologiques des années à venir.

40. Parmi les nombreuses transformations de la société française, l'émancipation des femmes est sans doute l'une des plus profondes. Cette émancipation passait d'abord par la conquête des moyens d'une vie autonome, c'est-à-dire en premier lieu par l'accès au marché du travail. L'évolution du taux d'activité des femmes depuis la fin des années 1960 traduit parfaitement cette mutation. Pourtant, celle-ci est loin d'être achevée: à travail, qualifications et âge équivalents, les femmes continuent d'être moins rémunérées que les hommes. ----

- A) La condition des femmes dans les pays en développement s'améliore encore trop lentement.
- B) La création du mot *féminisme* par Charles Fourier est probablement une légende.
- C) L'émancipation signifie que l'on se libère des préjugés traditionnels et que l'on se dégage d'une autorité.
- D) Le nombre de femmes françaises actives en politique reste très faible en comparaison aux autres pays européens.
- E) Et cet écart reste malheureusement inchangé depuis une dizaine d'années.

41. - 46. sorularda, verilen Fransızca cümleye anlamca en yakın Türkçe cümleyi, Türkçe cümleye anlamca en yakın Fransızca cümleyi bulunuz.

41. De nombreuses études, menées notamment sur les jumeaux, ont tenté de déterminer dans quelle mesure la personnalité peut être attribuée à des facteurs génétiques.

- A) Özellikle ikizler üzerinde yapılan pek çok araştırmada kişiliğin genetik etkenlere bağlı olabileceğine dair bulgular ortaya çıktı.
- B) Özellikle ikizler üzerinde yapılan araştırmalar, kişiliğin genetik etkenlere bağlı olabileceğini ortaya koyuyor.
- C) Özellikle ikizler üzerinde yürütülen araştırmalar gösteriyor ki kişiliğin oluşmasında genetik etkenlerin de önemli bir rolü var.
- D) Özellikle ikizler üzerinde yürütülen pek çok araştırma, kişiliğin genetik etkenlerle ne derece ilişkilendirilebileceğini belirlemeye girişmiştir.
- E) Özellikle ikizler üzerinde yapılan pek çok araştırma, kişiliğin oluşmasında en önemli etkenin genetik yapı olduğunu gösteriyor.

42. Dans la structure sociale stricte de l'Inde, les personnes appartenant à des castes différentes ne se côtoient pas et se marient rarement entre elles.

- A) Hindistan'da, katı toplumsal yapı gereği, farklı kастlara ait kişilerin bir araya gelmeleri ve birbirleriyle evlenmeleri çok zordur.
- B) Hindistan'ın katı toplumsal yapısı içerisinde, farklı kастlara ait olan kişiler bir araya gelmezler ve birbirleriyle nadiren evlenirler.
- C) Hindistan'ın katı toplumsal yapısı, farklı kастlara ait kişilerin bir arada bulunmalarını hatta evlenmelerini yasaklamıştır.
- D) Kast sistemi nedeniyle katı bir toplumsal yapıya sahip Hindistan'da farklı kастlara ait insanlar bir araya gelemez ve evlenemezler.
- E) Katı toplumsal yapı Hindistan'da farklı kастlara ait insanların bir araya gelmelerini ve evlenmelerini engeller.

43. La plupart des économies capitalistes dépendent en partie de l'État, mais, dans certains, l'État a joué un rôle majeur dans l'apparition et le développement d'une économie de marché.

- A) Kapitalist ekonomilerin çoğu, kısmen devlete bağımlı olarak işler ama bazılarında devlet pazar ekonomisinin ortaya çıkması ve gelişmesi için ön ayak olmuştur.
- B) Devlete kısmen bağımlı kapitalist ekonomilerin çoğunda devlet, pazar ekonomisinin ortaya çıkması ve gelişmesinde önemli bir rol oynamıştır.
- C) Kapitalist ekonomilerin çoğu, devlete kısmen bağımlıdır ama bazılarında devlet, bir pazar ekonomisinin ortaya çıkması ve gelişmesi için önemli bir rol oynamıştır.
- D) Devlet bazı kapitalist ülkelerde bir pazar ekonomisinin ortaya çıkması ve gelişmesi için başlangıçta önemli bir rol oynamış ama sonra ekonomiye kısmen müdahil olmuştur.
- E) Kapitalist ekonomilerin çoğu devlete kısmen bağımlıdır ama bazılarında pazar ekonomisinin ortaya çıkması ve gelişmesi için devlete daha büyük iş düşmüştür.

44. İlk modern olimpiyat oyunları 1896 yılında, Atina'da Pierre de Coubertin'in inisiyatifiyle düzenlenmiştir.

- A) Les premiers Jeux olympiques modernes n'auraient jamais pu être organisés à Athènes en 1896 sans l'influence d'un certain Pierre de Coubertin.
- B) Sans l'initiative de Pierre de Coubertin, les Jeux olympiques modernes n'auraient jamais vu le jour à Athènes en 1896.
- C) Après les premiers Jeux olympiques modernes organisés en 1896 à Athènes, Pierre de Coubertin a tout fait pour que cette manifestation se reproduise.
- D) Si les Jeux olympiques modernes existent aujourd'hui, on le doit à Pierre de Coubertin qui les a remis au goût du jour à Athènes en 1896.
- E) C'est à l'initiative de Pierre de Coubertin que les premiers Jeux olympiques modernes ont été organisés à Athènes, en 1896.

45. Günümüzde uluslararası örgütler, pek çok ülkenin iç işlerine gitgide daha çok müdahil oluyor.

- A) Étant donné que les organisations internationales sont plus actives, elles interviennent plus souvent dans les affaires des autres pays.
- B) De nombreux pays voient de plus en plus leurs affaires intérieures mises sur la place publique par les organisations internationales.
- C) Les interventions croissantes des organisations internationales dans les affaires intérieures de nombreux pays mécontentent de plus en plus ces pays.
- D) Afin de régler les affaires intérieures de certains pays, les organisations internationales sont de plus en plus prêtes à intervenir.
- E) De nos jours, les organisations internationales interviennent de plus en plus dans les affaires intérieures de nombreux pays.

**46. Küçük ulusal ekonomilerin çoğu için yaşamsal olan uluslararası ticaret, son yıllarda en büyük ekonomiler için de önem kazanmıştır.**

- A) Comme le commerce international a pris de l'importance ces dernières années pour les plus grandes économies, il ne s'intéresse que peu aux petites économies nationales.
- B) Même si, ces dernières années, le commerce international est vital pour les plus grandes économies nationales, cela est très différent en ce qui concerne les petites économies.
- C) Vital pour la plupart des petites économies nationales, le commerce international a également pris de l'importance, ces dernières années, pour les plus grandes économies.
- D) À partir du moment où le commerce international a pris de l'importance pour les plus grandes économies, les petites économies ont suivi leur exemple ces dernières années.
- E) Ce sont les plus grandes économies qui ont compris en premier l'importance du commerce international puis les petites économies les ont copiées.

**47. - 50. sorularda, cümleler sırasıyla okunduğunda parçanın anlam bütünlüğünü bozan cümleyi bulunuz.**

47. (I) Longtemps méprisée ou, au mieux, considérée comme un loisir pour les enfants, la Bande dessinée (BD) a acquis, depuis, ses lettres de noblesse. (II) Témoignage de l'évolution des arts visuels et de la personnalité des artistes qui la dessinent, elle peut aussi servir de support, d'illustration ou de complément à des textes de valeur. (III) De G.Colomb au XIX<sup>e</sup> siècle, ("Le sapeur Camembert", "La famille Fenouillard") à Bilal, M.Satrapi ou C.Bretecher, en passant par Hergé, la BD a élargi son public. (IV) Elle est parfois une façon ludique d'aborder la littérature. (V) La première caractéristique de la littérature populaire est d'être à la fois bon marché et facilement disponible.

- A) I      B) II      C) III      D) IV      E) V

48. (I) La mondialisation économique désigne un processus d'intensification des échanges internationaux de toute nature: marchandises, capitaux, informations... (II) Ce n'est ni un phénomène économique nouveau, ni un phénomène irréversible. (III) À d'autres périodes de l'histoire correspondent d'autres formes de mondialisation, qui parfois ont pris fin dans une phase de repli autarcique. (IV) Le phénomène actuel se caractérise toutefois par son ampleur et son intensité. (V) Le terme mondialisation est parfois pris comme synonyme de l'anglicisme globalisation.

- A) I      B) II      C) III      D) IV      E) V

49. (I) L'atmosphère terrestre est unique parmi les atmosphères des autres planètes du système solaire. (II) Elle est riche en azote et oxygène et pauvre en CO<sub>2</sub> contrairement aux atmosphères de Vénus et Mars. (III) L'atmosphère terrestre contient également de nombreux constituants mineurs, les gaz rares, comme le xénon, l'hélium ou l'argon. (IV) L'atmosphère nous protège des météorites, des rayons ultraviolets et maintient des températures qui rendent la vie possible. (V) Ces gaz sont piégés dans les basaltes océaniques des dorsales qui sont formés dans les éruptions volcaniques sous marines au niveau des dorsales et ramènent ainsi du matériau du manteau profond.

- A) I      B) II      C) III      D) IV      E) V

50. (I) Si ce cousin de l'homme moderne est l'auteur de telles œuvres artistiques, ce serait une révolution chez les préhistoriens. (II) L'homme de Neandertal a vécu en Europe et en Asie occidentale au paléolithique moyen, entre -250 000 et -30 000 ans. (III) Il est l'auteur d'une riche culture matérielle appelée le moustérien. (IV) Malheureusement, on ne connaît toujours pas les causes de sa disparition. (V) Cependant, nous savons que certains représentants de ce groupe ont survécu plus longtemps du côté de Gibraltar, alors qu'ils avaient déjà totalement disparu depuis longtemps du reste de l'Europe.

- A) I      B) II      C) III      D) IV      E) V

# SINAVDA UYULACAK KURALLAR

- 1. Cep telefonu ile sınava girmek kesinlikle yasaktır.** Çağrı cihazı, telsiz, fotoğraf makinesi vb. araçlarla; cep bilgisayarı, kol ya da cep saati gibi her türlü bilgisayar özelliği bulunan cihazlarla; silah ve benzeri teçhizatla; müsvedde kâğıdı, defter, kitap, sözlük, sözlük işlevi olan elektronik aygıt, hesap cetveli, hesap makinesi, pergel, açölçer, cetvel vb. araçlarla sınava girmek kesinlikle yasaktır. Bu araçlarla sınava girmiş adayların adı mutlaka Salon Sınav Tutanağına yazılacak, bu adayların sınavı geçersiz sayılacaktır. **Sınava kalem, silgi, kalemıraş, saat vb. araçla ve kulaklık, küpe, broş vb. takı, herhangi bir metal eşya ile girmek de kesinlikle yasaktır. Yiyecek, içecek vb. tüketim malzemeleri de sınava getirilemez. Adaylar sınava şeffaf şişe içerisinde su getirebilecektir.**
2. Bu sınav için verilen toplam cevaplama süresi **150 dakikadır.** Sınav başladıktan sonra **ilk 110** ve **son 15** dakika içinde adayın sınavdan çıkmasına kesinlikle izin verilmeyecektir. **Bu süreler dışında, cevaplamaı sınav bitmeden tamamlarsanız cevap kâğıdınızı ve soru kitapçığınızı salon görevlilerine teslim ederek salonu terk edebilirsiniz.**
3. **Sınav salonundan ayrılan aday, her ne sebeple olursa olsun, tekrar sınava alınmayacaktır.**
4. Sınav süresince görevlilerle konuşmak, görevlilere soru sormak yasaktır. Aynı şekilde görevlilerin de adaylarla yakından ve alçak sesle konuşmaları ayrıca adayların birbirinden kalem, silgi vb. şeyleri istemeleri kesinlikle yasaktır.
5. Sınav sırasında, görevlilerin her türlü uyarısına uymak zorundasınız. Sınavınızın geçerli sayılması, her şeyden önce, sınav kurallarına uymanıza bağlıdır. Kurallara aykırı davranışta bulunanların ve yapılacak uyarılara uymayanların kimlik bilgileri Salon Sınav Tutanağına yazılacak ve sınavları geçersiz sayılacaktır.
6. Sınav sırasında kopya çeken, çekmeye kalkışan, kopya veren, kopya çekilmesine yardım edenlerin kimlik bilgileri Salon Sınav Tutanağına yazılacak ve bu adayların sınavları geçersiz sayılacaktır. Görevliler kopya çekmeye ya da vermeye kalkışanları uyararak zorunda değildir, sorumluluk size aittir.

Adayların test sorularına verdikleri cevapların dağılımları bilgi işlem yöntemleriyle incelenecek, bu incelemelerden elde edilen bulgular bireysel ya da toplu olarak kopya çekildiğini gösterirse kopya eylemine katılan adayın/adayların cevaplarının bir kısmı ya da tamamı iptal edilecektir.

Sınav görevlileri bir salondaki sınavın, kurallara uygun biçimde yapılmadığını, toplu kopya girişiminde bulunulduğunu raporlarında bildirdiği takdirde, ÖSYM takdir hakkını kullanarak bu salonda sınava giren tüm adayların sınavını geçersiz sayabilir.

7. Cevap kâğıdında doldurmanız gereken alanlar bulunmaktadır. Bu alanları doldurunuz. Cevap kâğıdınızı başkaları tarafından görülmeyecek şekilde tutmanız gerekmektedir. Cevap kâğıdına yazılacak her türlü yazıda ve yapılacak bütün işaretlemelerde salon görevlisinin atacağı imzalar hariç, kurşun kalem kullanılacaktır. Sınav süresi bittiğinde cevapların cevap kâğıdına işaretlenmiş olması gerekir. Soru kitapçığına işaretlenen cevaplar geçerli değildir.
8. Soru kitapçığınızı alır almaz kapağında bulunan ilgili alanlara kimlik bilgilerinizi yazınız. Sayfaların eksik olup olmadığını, kitapçıkta basım hatalarının bulunup bulunmadığını ve soru kitapçığının her sayfasında basılı bulunan soru kitapçık numarasının, kitapçığın ön kapağında basılı soru kitapçık numarasıyla aynı olup olmadığını kontrol ediniz. Soru kitapçığının sayfası eksik ya da basım hatalıysa değiştirilmesi için salon başkanına başvurunuz.  
Size verilen soru kitapçığının numarasını cevap kâğıdınızdaki "Soru Kitapçık Numarası" alanına yazınız ve kodlayınız. Cevap kâğıdınızdaki "Soru kitapçık numaramı doğru kodladım." kutucuğunu işaretleyiniz.  
**Soru kitapçığı üzerinde yer alan Soru Kitapçık Numarasını doğru kodladığınızı beyan eden alanı imzalayınız ve salon görevlisinin, kodlamanın doğru yapıldığını beyan eden hem soru kitapçığındaki hem de cevap kâğıdınızdaki ilgili alanı imzaladıktan emin olunuz. Salon görevlisi imzasını tükenmez kalemle ve siz kodlamayı yaptıktan sonra atmalıdır.**
9. Sınav sonunda soru kitapçıkları toplanacak ve ÖSYM'de tek tek incelenecektir. Soru kitapçığının bir sayfası bile eksik çıkarsa sınavınız geçersiz sayılacaktır.
10. Cevap kâğıdına ve soru kitapçığına yazılması ve işaretlenmesi gereken bilgilerde bir eksiklik ve/veya yanlışlık olması hâlinde sınavınız değerlendirilmesi mümkün olamamaktadır, sorumluluk size aittir.
11. Soru kitapçığının sayfalarındaki boş yerleri müsvedde için kullanabilirsiniz.
12. Soruları ve/veya bu sorulara verdiğiniz cevapları ayrı bir kâğıda yazıp bu kâğıdı dışarı çıkarmanız kesinlikle yasaktır.
13. **Her bölümün cevaplarını cevap kâğıdındaki ilgili alana işaretlemeye dikkat ediniz.**
14. Sınav salonundan ayrılmadan önce, soru kitapçığınızı ve cevap kâğıdınızı salon görevlilerine teslim etmeyi unutmayınız.

*Bu testlerin her hakkı saklıdır. Hangi amaçla olursa olsun, testlerin tamamının veya bir kısmının Merkezimizin yazılı izni olmadan kopya edilmesi, fotoğrafının çekilmesi, herhangi bir yolla çoğaltılması, yayımlanması ya da kullanılması yasaktır. Bu yasağa uymayanlar gerekli cezai sorumluluğu ve testlerin hazırlanmasındaki mali külfeti peşinen kabullenmiş sayılır.*



**MALİYE BAKANLIĞI İÇ DENETİM KOORDİNASYON KURULU**  
**İÇ DENETÇİ ADAY BELİRLEME SINAVI**  
**20 EKİM 2012**

**GENEL YETENEK  
VE GENEL KÜLTÜR TESTİ**

- |       |       |
|-------|-------|
| 1. E  | 31. D |
| 2. A  | 32. A |
| 3. E  | 33. C |
| 4. A  | 34. B |
| 5. C  | 35. A |
| 6. D  | 36. B |
| 7. A  | 37. A |
| 8. C  | 38. C |
| 9. D  | 39. B |
| 10. A | 40. D |
| 11. B | 41. E |
| 12. C | 42. B |
| 13. B | 43. E |
| 14. D | 44. C |
| 15. E | 45. E |
| 16. D | 46. D |
| 17. A | 47. C |
| 18. D | 48. D |
| 19. C | 49. E |
| 20. C | 50. B |
| 21. B | 51. C |
| 22. E | 52. A |
| 23. E | 53. B |
| 24. B | 54. A |
| 25. A | 55. E |
| 26. B | 56. E |
| 27. E | 57. D |
| 28. C | 58. C |
| 29. A | 59. A |
| 30. B | 60. B |

**ALAN BİLGİSİ  
TESTİ**

- |       |
|-------|
| 1. D  |
| 2. B  |
| 3. C  |
| 4. B  |
| 5. A  |
| 6. C  |
| 7. E  |
| 8. B  |
| 9. A  |
| 10. A |
| 11. E |
| 12. D |
| 13. E |
| 14. C |
| 15. A |
| 16. C |
| 17. B |
| 18. A |
| 19. A |
| 20. E |
| 21. C |
| 22. E |
| 23. C |
| 24. E |
| 25. B |
| 26. D |
| 27. D |
| 28. C |
| 29. C |
| 30. C |

MALİYE BAKANLIĞI İÇ DENETİM KOORDİNASYON KURULU  
İÇ DENETÇİ ADAY BELİRLEME SINAVI  
20 EKİM 2012

FRANSIZCA TESTİ

- |       |       |
|-------|-------|
| 1. B  | 26. D |
| 2. E  | 27. A |
| 3. A  | 28. C |
| 4. D  | 29. D |
| 5. C  | 30. E |
| 6. A  | 31. B |
| 7. B  | 32. C |
| 8. D  | 33. A |
| 9. C  | 34. D |
| 10. D | 35. E |
| 11. E | 36. C |
| 12. B | 37. D |
| 13. E | 38. B |
| 14. A | 39. A |
| 15. C | 40. E |
| 16. D | 41. D |
| 17. A | 42. B |
| 18. B | 43. C |
| 19. C | 44. E |
| 20. D | 45. E |
| 21. E | 46. C |
| 22. A | 47. E |
| 23. C | 48. E |
| 24. B | 49. D |
| 25. E | 50. A |